

Малчески Ристо

**ЦРВЕНКАПА И ЗАГАТКИТЕ НА ВОЛКОТ**

Црвенкапа тргнала во посета кај својата баба. Дел од патот по кој треба да помине е поплочен и плочите се означени со броеви. Црвенкапа смее да гази само на определени полиња, бидејќи во спротивно ќе го разбуди волкот. Затоа нејзината баба и пратила математичка загатка, со чие решавање ќе ги добие полињата по кои последователно треба да гази за да не го разбуди волкот. Еве ја загатката:

$8 + 8 = \underline{\quad}$

$\underline{\quad} + 13 = \underline{\quad}$

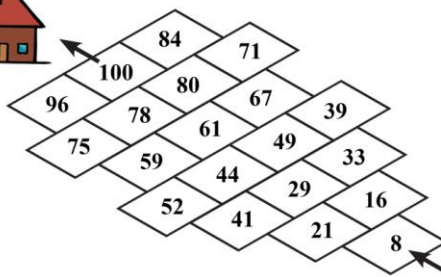
$\underline{\quad} + 20 = \underline{\quad}$

$\underline{\quad} + 18 = \underline{\quad}$

$\underline{\quad} + 4 = \underline{\quad}$

$\underline{\quad} + 13 = \underline{\quad}$

$\underline{\quad} + 16 = \underline{\quad}$ .



Помогни ѝ на Црвенкапа да ја дешифрира пораката на нејзината баба. Обој ја патеката со црвено.

Волкот забележал дека не добива знак кога Црвенкапа доаѓа кај нејзината баба, па затоа ги заменил броевите на плочите, но така што Црвенкапа повторно може да помине по патеката без да го разбуди. Бабата која од прозорецот набљудувала што работи волкот, на Црвенкапа и ја пратила следнава загатка, со чие решавање се добиваат полињата по кои Црвенкапа последователно треба да гази за да не го разбуди волкот:

$100 - 7 = \underline{\quad}$

$\underline{\quad} - 9 = \underline{\quad}$

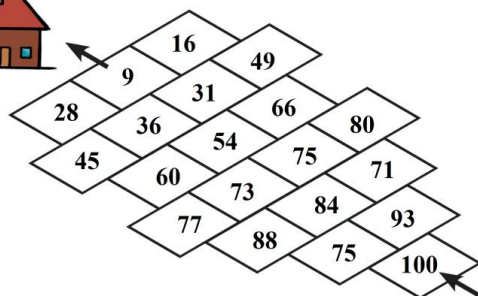
$\underline{\quad} - 11 = \underline{\quad}$

$\underline{\quad} - 13 = \underline{\quad}$

$\underline{\quad} - 15 = \underline{\quad}$

$\underline{\quad} - 17 = \underline{\quad}$

$\underline{\quad} - 19 = \underline{\quad}$ .



Помогни ѝ на Црвенкапа да ја дешифрира пораката на нејзината баба. Обој ја патеката со сино.

Бабата и Црвенката двапати го надитриле волкот, па затоа тој решил да земени неколку броеви на плочите и да означи нов пат по кој Црвенкапа може да помине без да го разбуди. Јасно, бабата била на претпазлива, па откако видела што направил волкот, на Црвенкапа и ја пратила следнава загатка:

$$12 + \_ = 87$$

$$37 + 48 = \_$$

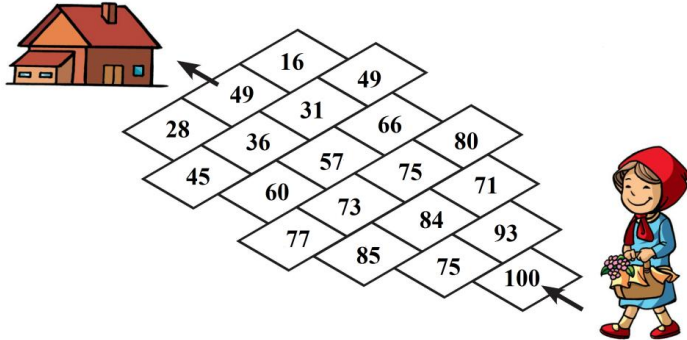
$$\_ + 22 = 95$$

$$18 + \_ = 75$$

$$\_ + 44 = 75$$

$$49 + \_ = 65$$

$$24 + 25 = \_ .$$



Обој ја портокалово патеката по која Црвенкапа треба да се движи за да не го разбуди волкот.