

Републички натпревар 1982

I година

1. Збирот на 5 природни броеви е 1982. Која најголема вредност може да ја прими нивниот најголем заеднички делител?

Решение. Нека a_1, a_2, a_3, a_4, a_5 се тие броеви и нека d е нивниот најголем заеднички делител. Тогаш $a_i = k_i d$, $i = 1, 2, 3, 4, 5$ и, притоа,

$$d(k_1 + k_2 + k_3 + k_4 + k_5) = 1982,$$

т.е.

$$ds = 2 \cdot 991,$$

каде што $s = k_1 + k_2 + k_3 + k_4 + k_5$.

Бидејќи $s \geq 5$, имаме: $s = 991$, $d = 2$ или $s = 1982$, $d = 1$. Значи, најголемата можна вредност што може да ја прими d е 2.

2. а) Да се докаже дека за кои било позитивни реални броеви x и y важи неравенството

$$\frac{x}{y} + \frac{y}{x} \geq 2. \quad (*)$$

б) Ако a, b, c се позитивни реални броеви и ако $a + b + c = 1$, тогаш

$$\frac{1}{a} + \frac{1}{b} + \frac{1}{c} \geq 9.$$

Докажи!

Решение. а) Од $(x - y)^2 \geq 0$ добиваме $x^2 + y^2 \geq 2xy$, па ќе имаме

$$\frac{x}{y} + \frac{y}{x} = \frac{x^2 + y^2}{xy} \geq \frac{2xy}{xy} = 2.$$

б) Од $a + b + c = 1$ имаме:

$$\frac{1}{a} = 1 + \frac{b+c}{a}, \quad \frac{1}{b} = 1 + \frac{a+c}{b}, \quad \frac{1}{c} = 1 + \frac{a+b}{c}.$$

Собирајќи ги овие равенства, имајќи го предвид (*), добиваме:

$$\frac{1}{a} + \frac{1}{b} + \frac{1}{c} = 3 + \left(\frac{a}{b} + \frac{b}{a}\right) + \left(\frac{b}{c} + \frac{c}{b}\right) + \left(\frac{c}{a} + \frac{a}{c}\right) \geq 3 + 2 + 2 + 2 = 9.$$

Да забележиме дека равенството ќе важи за

$$\frac{a}{b} + \frac{b}{a} = \frac{b}{c} + \frac{c}{b} = \frac{c}{a} + \frac{a}{c} = 2, \text{ т.е. } a = b = c = \frac{1}{3}.$$

3. Тројца луѓе A, B и C се допишуваат меѓу себе, така што:

- A му пишува на B секој трет ден, а на C секој втор ден;
- B му пишува на A по добиени четири писма од A и C , а на C секој трет ден;

- C му пишува на A по добиени три писма од A и B , а на B секој четврти ден.

По колку дена A ќе добие 61 писмо, ако писмата патуваат по еден ден?

Решение. Со x да го означиме бројот на деновите за кои на A му е испратено 61 писмо. За тоа време B добил од A $\frac{x-1}{3}$ писма, а од C $\frac{x-1}{4}$ писма, или вкупно од A и C : $\frac{7(x-1)}{12}$ писма. Исто така, C од A добил $\frac{x-1}{2}$ писма, а од B добил $\frac{x-1}{3}$ писма, или вкупно од A и B : $\frac{5(x-1)}{6}$ писма.

Значи, за x дена B на A ќе му испрати $\frac{7(x-1)}{12 \cdot 4}$ писма, а C на A ќе му испрати $\frac{5(x-1)}{6 \cdot 3}$ писма, т.е. на A ќе му бидат испратени вкупно $\frac{7(x-1)}{48} + \frac{5(x-1)}{18} = 61$ писмо. Решението на ова равенка е $x = 145$. Бидејќи последното испратено писмо треба да патува еден ден, A ќе добие 61 писмо за 146 дена.

4. Нека M е произволна внатрешна точка за правилниот тетраедар $ABCD$. Да се докаже дека збирот на растојанието од M до сидовите на тетраедарот е константен.

Решение. Правилниот тетраедар $ABCD$ го разбиваме на четири тетраедри: $ABCM$, $BCDM$, $CDAM$ и $DABM$. Тогаш имаме

$$V_{ABCM} + V_{BCDM} + V_{CDAM} + V_{DABM} = V_{ABCD}.$$

Растојанието од точката M до сидот XYZ да го означиме со d_{XYZ} ; тогаш имаме

$$V_{ABCM} = \frac{1}{3} P_{ABC} d_{ABC} = \frac{a^2 \sqrt{3}}{12} d_{ABC},$$

$$V_{BCDM} = \frac{1}{3} P_{BCD} d_{BCD} = \frac{a^2 \sqrt{3}}{12} d_{BCD}$$

$$V_{CDAM} = \frac{1}{3} P_{CDA} d_{CDA} = \frac{a^2 \sqrt{3}}{12} d_{CDA},$$

$$V_{DABM} = \frac{1}{3} P_{DAB} d_{DAB} = \frac{a^2 \sqrt{3}}{12} d_{DAB}.$$

Бидејќи $V_{ABCD} = \frac{a^2 \sqrt{3}}{12} H$, од (1) добиваме

$$d_{ABC} + d_{BCD} + d_{CDA} + d_{DAB} = H.$$

II година

1. Нека z_1, z_2 и z_3 се комплексни броеви со модул 1 и нека $z_1 + z_2 + z_3 = 0$. Да се докаже дека

$$|z_1 - z_2| = |z_2 - z_3| = |z_3 - z_1|.$$

Решение. Од $z_1 + z_2 + z_3 = 0$ и $|z_1| = |z_2| = |z_3| = 1$ добиваме

$$|z_1 + z_2| = |z_2 + z_3| = |z_3 + z_1| = 1.$$

Нека $z_k = x_k + iy_k$, $k = 1, 2, 3$. Од $|z_k + z_j| = 1$ за $k \neq j$ добиваме

$$(x_k^2 + x_j^2) + (y_k^2 + y_j^2) + 2(x_k x_j + y_k y_j) = 1$$

$$2 + 2 \cdot (x_k x_j + y_k y_j) = 1$$

$$2(x_k x_j + y_k y_j) = -1.$$

Користејќи го тоа, за модулот на $z_k - z_j$ ($k, j \in \{1, 2, 3\}$, $k \neq j$) добиваме

$$\begin{aligned} |z_k - z_j|^2 &= (x_k - x_j)^2 + (y_k - y_j)^2 \\ &= (x_k^2 + x_j^2) + (y_k^2 + y_j^2) - 2(x_k x_j + y_k y_j) \\ &= 2 + 1 = 3 \end{aligned}$$

т.е.

$$|z_1 - z_2| = |z_2 - z_3| = |z_3 - z_1| = \sqrt{3}.$$

2. Од местото A кон местото B истовремено тргнуваат две групи туристи. Првата група тргнала со автобус движејќи се со просечна брзина од 20 km/s и стигнала до местото C што е на половина пат меѓу A и B , а потоа тргнале пешки. Втората група тргнала пешки, а по 1 час се качила на автобус, кој се движел со просечна од 30 km/h . Во местото C , првата група стигнала 35 минути порано од втората, а во местото B стигнала 1 час и 25 минути подоцна. Колку се оддалечени местата A и B и колкава е просечната брзина на групите, кога одат пешки, ако просечната брзина на првата група е за 1 km/h поголема од просечната брзина на втората група?

Решение. Со x да ја означиме просечната брзина на првата група (кога оди пешки). Тогаш просечната брзина на втората група (кога оди пешки) ќе биде $y = x - 1$. Ако со s го означиме растојанието меѓу местата A и B , тогаш, од условите на задачата, добиваме:

$$\frac{s}{20} + \frac{7}{12} = 1 + \frac{s(x-1)}{30}$$

$$\frac{s}{x} = \frac{s}{30} + 2$$

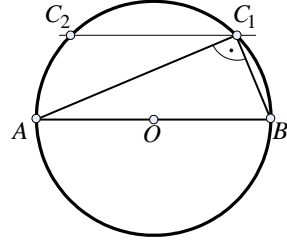
од каде што добиваме $x_1 = 6$, $x_2 = 67,25$, $s_1 = 30$, $s_2 = -215$.

Значи, просечната брзина на првата група (кога одат пешки) е 6 km/h , на втората 5 km/h , а местата A и B се оддалечени 30 km .

3. Да се конструира правоаголен триаголник ABC , со прав агол кај темето C , ако е дадена хипотенузата c , а тежишната линија t_c е геометриска средина на катетите.

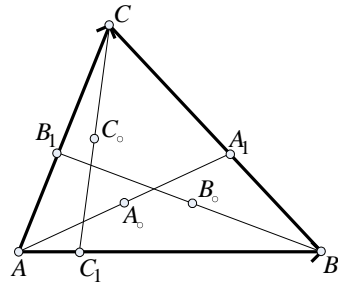
Решение. По услов имаме $t_c^2 = ab$; но, $t_c = \frac{c}{2}$, па, значи, $c^2 = 4ab$. За висината h_c имаме $h_c = \frac{ab}{c} = \frac{c}{4}$, па триаголникот ABC (со дадени c и h_c) може да се конструира.

- Конструкција. 1) $\overline{AB} = c$;
 2) O средина на AB ;
 3) права p , паралелна со AB и на растојание $h_c = \frac{c}{4}$ од неа;
 4) кружница $k(O, \overline{OA})$;
 5) темето C припаѓа на $P \cap k$ (види цртеж).



4. Нека A_1, B_1 и C_1 се произволни внатрешни точки соодветно од страните BC, CA и AB на триаголникот ABC и нека A_0, B_0 и C_0 се средини на отсечките AA_1, BB_1 и CC_1 , соодветно. Да се докаже дека точките A_0, B_0 и C_0 не се колинеарни.

Решение. Да ставиме $\overline{AB} = \vec{b}$, $\overline{AC} = \vec{c}$ (види цртеж). Тогаш $\overline{BC} = \vec{c} - \vec{b}$. Точката C_1 лежи на страната AB што значи дека векторите \overline{AB} и $\overline{AC_1}$ се колинерани, па постои реален број λ ($0 < \lambda < 1$), така што $\overline{AC_1} = \lambda \vec{b}$. Исто така, постојат реални броеви μ и ν ($0 < \mu, \nu < 1$), така што $\overline{BA_1} = \mu(\vec{c} - \vec{b})$, $\overline{AB_1} = \nu \vec{c}$.



За да докажеме дека точките A_0, B_0, C_0 не се колинеарни, доволно е да докажеме дека векторите $\overline{A_0B_0}$ и $\overline{A_0C_0}$ не се колинеарни, т.е. не постои реален број x така што $\overline{A_0C_0} = x \overline{A_0B_0}$. За таа цел, прво да ги најдеме векторите $\overline{A_0B_0}$ и $\overline{A_0C_0}$. Имаме

$$\begin{aligned}
 \overline{A_0B_0} &= \overline{A_0A} + \overline{AB} + \overline{BB_0} \\
 &= \frac{1}{2} \overline{AA_1} + \overline{AB} + \frac{1}{2} \overline{BB_1} \\
 &= \frac{1}{2} (\overline{A_1B} + \overline{BA}) + \overline{AB} + \frac{1}{2} (\overline{BA} + \overline{AB_1}) \\
 &= \frac{1}{2} (\overline{A_1B} + \overline{AB_1}) \\
 &= \frac{1}{2} (\mu \overline{BC} + \nu \overline{AC}) \\
 &= \frac{1}{2} (\mu \vec{b} + (\nu - \mu) \vec{c})
 \end{aligned}$$

$$\begin{aligned}
 \overrightarrow{A_0C_0} &= \overrightarrow{A_0A} + \overrightarrow{AC} + \overrightarrow{CC_0} \\
 &= \frac{1}{2}\overrightarrow{AA_1} + \overrightarrow{AC} + \frac{1}{2}\overrightarrow{CC_1} \\
 &= \frac{1}{2}(\overrightarrow{A_1C} + \overrightarrow{BA}) + \overrightarrow{AC} + \frac{1}{2}(\overrightarrow{CA} + \overrightarrow{AC_1}) \\
 &= \frac{1}{2}(\overrightarrow{A_1C} + \overrightarrow{AC_1}) \\
 &= \frac{1}{2}((1-\mu)\overrightarrow{BC} + \lambda\overrightarrow{AB}) \\
 &= \frac{1}{2}((1-\mu)(\vec{c} - \vec{b}) + \lambda\vec{b}) \\
 &= \frac{1}{2}((\lambda + \mu - 1)\vec{b} + (1 - \mu)\vec{c})
 \end{aligned}$$

Да ја разгледаме, сега, равенката $\overrightarrow{A_0C_0} = x\overrightarrow{A_0B_0}$, т.е.

$$(\lambda + \mu - 1 - x\mu)\vec{b} + (1 - \mu - x\mu + x\mu)\vec{c} = \vec{0}.$$

Векторите \vec{b} и \vec{c} не се колинеарни, па, ќе имаме

$$\lambda + \mu - 1 - x\mu = 0$$

$$1 - \mu - x\mu + x\mu = 0$$

Бидејќи $0 < \mu < 1$, првата равенка има единствено решение $x = \frac{\lambda + \mu - 1}{\mu}$. Втората равенка има решение ако $\mu - \nu \neq 0$, или, пак, $\mu - \nu = 0$ и $\mu - 1 = 0$. Во вториот случај имаме $\mu = \nu = 1$, што не е можно. Значи, и втората равенка има единствено решение $x = \frac{\mu - 1}{\mu - \nu}$.

За равенката $\overrightarrow{A_0C_0} = x\overrightarrow{A_0B_0}$ да има решение, треба

$$\frac{\lambda + \mu - 1}{\mu} = \frac{\mu - 1}{\mu - \nu},$$

од каде што добиваме $\lambda = -1 + \frac{\mu(1-\nu)}{\mu-\nu} < 0$, што не е можно.

Следствено, не постои реален број x , така што да важи $\overrightarrow{A_0C_0} = x\overrightarrow{A_0B_0}$, т.е. точките A_0, B_0 и C_0 не се колинеарни.

III година

1. Да се најде збирот на коефициентите при непарните степени на x на полиномот

$$p(x) = (x^2 + 2x + 2)^{1982} + (x^2 - 3x - 3)^{1982}.$$

Решение. Ако $f(x) = a_0 + a_1x + a_2x^2 + \dots + a_nx^n$ е полином од n -ти степен, тогаш

$$f(1) = a_0 + a_1 + a_2 + \dots + a_n,$$

$$f(-1) = a_0 - a_1 + a_2 - \dots + (-1)^n a_n,$$

па, значи $\frac{1}{2}(f(1) + f(-1))$ е збирот на коефициентите пред парните степени на x , а $\frac{1}{2}(f(1) - f(-1))$ е збирот на коефициентите пред непарните степени на x .

Според тоа, збирот на непарните степени на x на полиномот $p(x)$ ќе биде:

$$\frac{1}{2}[p(1) - p(-1)] = \frac{1}{2}(5^{1982} + 5^{1982} - 1 - 1) = 5^{1982} - 1.$$

2. Нека α, β и γ се агли на еден триаголник ABC . Да се докаже дека:

а) $\sin^2 \alpha + \sin^2 \beta + \sin^2 \gamma > 2$ ако и само ако триаголникот ABC е остроаголен,

б) $\sin^2 \alpha + \sin^2 \beta + \sin^2 \gamma < 2$ ако и само ако триаголникот ABC е тапоаголен,

в) $\sin^2 \alpha + \sin^2 \beta + \sin^2 \gamma = 2$ ако и само ако триаголникот ABC е правоаголен.

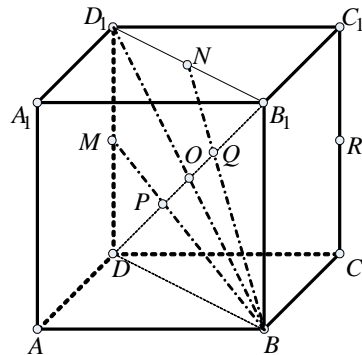
Решение. За изразот $\sin^2 \alpha + \sin^2 \beta + \sin^2 \gamma$ имаме:

$$\begin{aligned} \sin^2 \alpha + \sin^2 \beta + \sin^2 \gamma &= \frac{1 - \cos 2\alpha}{2} + \frac{1 - \cos 2\beta}{2} + \sin^2(\alpha + \beta) \\ &= 1 - \frac{1}{2}(\cos 2\alpha + \cos 2\beta) + 1 - \cos^2(\alpha + \beta) \\ &= 2 - \cos(\alpha + \beta)\cos(\alpha - \beta) - \cos^2(\alpha + \beta) \\ &= 2 - [\cos(\alpha + \beta) + \cos(\alpha - \beta)]\cos(\alpha + \beta) \\ &= 2 - \cos \alpha \cos \beta \cos(\alpha + \beta) = 2 + \cos \alpha \cos \beta \cos \gamma \end{aligned}$$

Според тоа $\sin^2 \alpha + \sin^2 \beta + \sin^2 \gamma > 2$ ако и само ако $\cos \alpha \cos \beta \cos \gamma > 0$, т.е. ако и само ако триаголникот ABC е остроаголен; $\sin^2 \alpha + \sin^2 \beta + \sin^2 \gamma < 2$ ако и само ако $\cos \alpha \cos \beta \cos \gamma < 0$, т.е. ако и само ако триаголникот ABC е тапоаголен; $\sin^2 \alpha + \sin^2 \beta + \sin^2 \gamma = 2$ ако и само ако $\cos \alpha \cos \beta \cos \gamma = 0$, т.е. ако и само ако еден од аглиите α, β, γ е прав.

3. Рамнините ACD_1 и DC_1A_1 ја сечат дијагоналата DB_1 на коцката $ABCD A_1B_1C_1D_1$ ($AA_1 \parallel BB_1$) во точките P и Q . Да се докаже дека $\overline{DP} = \overline{PQ} = \overline{QB_1}$.

Решение. Да го разгледаме триаголникот DBD_1 (види цртеж). Точката M е средина на страната DD_1 , а точката O е средина на страната BD_1 и $P = BM \cap DO$. Значи, P е тежиште на триаголникот DBD_1 , од каде што следува дека: $\overline{DP} = \frac{2}{3}\overline{DO} = \frac{2}{3} \cdot \frac{1}{2}\overline{DB_1} = \frac{1}{3}\overline{DB_1}$.



На ист начин, од триаголникот BB_1D_1 , добиваме дека $\overline{QB_1} = \frac{1}{3}\overline{DB_1}$, па значи:

$$\overline{DP} = \overline{PQ} = \overline{QB_1} = \frac{1}{3}\overline{DB_1}.$$

4. Нека A и B се n -цифрени броеви, n -непарен, коишто при делењето со k даваат ист остаток $r \neq 0$. Да се најде барем еден број k , што не зависи од n , така што бројот C , добиен со допишување на цифрите од A и B , да е делив со k .

Решение. Нека $A = ka + r$, $B = kb + r$, $0 < r < k$; тогаш имаме:

$$C = 10^n A + B = 10^n(ka + r) + (kb + r) = k(10^n a + b) + (10^n + 1)r.$$

Бројот C е делив со k ако и само ако бројот $10^n + 1$ е делив со k . Бидејќи $n = 2m + 1$, имаме

$$10^n + 1 = 10^{2m+1} + 1 = (10 + 1)(10^{2m} - 10^{m-1} + \dots + 1) = 11D,$$

што значи дека еден број k што го задоволува условот на задачата е бројот 11.

IV година

1. Да се најде збирот на сите трицифрени броеви што може да се формираат од цифрите 1, 2, 3 и 4.

Решение. Од цифрите 1, 2, 3 и 4 може да се формираат $4^3 = 64$ трицифрени броеви. Секоја цифра на последното место се јавува ист број пати, т.е. секоја од цифрите 1, 2, 3, 4 како последна се јавува во 16 трицифрени броеви. Затоа, збирот на единиците е:

$$16(1+2+3+4) = 160,$$

а збирот на десетките и стотките ќе биде 1600 и 16000 соодветно. Според тоа, збирот на сите трицифрени броеви ќе биде

$$160 + 1600 + 16000 = 17760.$$

2. Четири броја a_1, a_2, a_3, a_4 формираат аритметичка прогресија. Производот од првиот и четвртиот член е еднаков на поголемиот корен на равенката

$$x^{1+\log x} = 0,001^{-\frac{2}{3}},$$

а збирот на квадратите на вториот и третиот член е петпати поголем од редниот број на членот во развојот на

$$\left(\frac{1}{\sqrt[4]{y}} + \sqrt[6]{y}\right)^{20}$$

што не зависи од y . Да се најдат тие броеви.

Решение. Да ја решиме, прво, дадената равенка. Неа можеме да ја напишеме во обликот

$$x^{1+\log x} = 10^{-2},$$

Од каде што добиваме

$$(1 + \log x) \log x = 2,$$

т.е. $\log x = 1$ и $\log x = -2$ или $x = 10$ и $x = 10^{-2}$.

Да го најдеме, сега, членот на развојот на дадениот бином што не зависи од y .

Притоа $(k+1)$ -от член е:

$$\binom{20}{k} y^{\frac{k-20}{4} + \frac{k}{6}},$$

а ако тој не зависи од y , мора да биде

$$\frac{k-20}{4} + \frac{k}{6} = 0,$$

т.е. $k = 12$. Значи, 13-от член не зависи од y .

Од условот на задачата имаме

$$a_1 a_4 = 10, \quad a_2^2 + a_3^2 = 5 \cdot 13,$$

т.е.

$$a_1(a_1 + 3d) = 10, \quad 2a_1^2 + 5d^2 + 6a_1d = 65,$$

од каде што добиваме $d = \pm 3$, $a_1 = \mp 10$. Значи, бараните броеви се $-10, -7, -4, -1$ или $10, 7, 4, 1$.

3. Да се докаже дека

$$S = \operatorname{tg} a_1 \operatorname{tg} a_2 + \operatorname{tg} a_2 \operatorname{tg} a_3 + \dots + \operatorname{tg} a_n \operatorname{tg} a_{n+1} = \frac{\sin(a_{n+1} - a_1)}{\cos a_1 \cos a_{n+1} \operatorname{tg} \alpha} - n,$$

каде што $a_1, a_2, \dots, a_n, a_{n+1}$ се последователни членови на аритметичка прогресија со разлика α .

Решение. Имаме

$$\operatorname{tg}(a_{k+1} - a_k) = \frac{\operatorname{tg} a_{k+1} - \operatorname{tg} a_k}{1 + \operatorname{tg} a_{k+1} \operatorname{tg} a_k}, \quad k = 1, 2, 3, \dots, n,$$

т.е.

$$\operatorname{tg} a_{k+1} \operatorname{tg} a_k = \frac{\operatorname{tg} a_{k+1} - \operatorname{tg} a_k}{\operatorname{tg} \alpha} - 1, \quad k = 1, 2, 3, \dots, n.$$

Собирајќи ги овие равенства за k од 1 до n добиваме

$$S = \frac{\operatorname{tg} a_{n+1} - \operatorname{tg} a_1}{\operatorname{tg} \alpha} - n = \frac{\sin(a_{n+1} - a_1)}{\cos a_1 \cos a_{n+1} \operatorname{tg} \alpha} - n.$$

4. Должините на сите рабови на правилна четиристрана пирамида $SABCD$ (со врв S) се еднакви на a . Низ точката A , поставена е рамнина Σ што е нормална на рамнината ACS и минува низ средината M на работ SC . Да се најде волуменот на четиристраната пирамида, отсечена од дадената пирамида со рамнината Σ .

Решение. Според условот на задачата, треба да го најдеме волуменот V на пирамидата $SAKMN$ (види цртеж). Тристраните пирамиди $KSAM$ и $NSAM$ имаат

еднакви волумени. Ако SAM ја земеме како основа на овие пирамиди, тогаш тие имаат еднакви висини, KR и NR . Според тоа,

$$V = \frac{2}{3} P_{ASM} \cdot \overline{KR}.$$

Бидејќи $\sphericalangle ASM = 90^\circ$, следува дека

$$P_{ASM} = \frac{1}{2} \overline{AS} \cdot \overline{MS} = \frac{a^2}{4}.$$

Точката R е тежиште на триаголник ACS , па ќе имаме

$$\overline{SR} : \overline{SO} = 2 : 3.$$

Од сличноста на триаголниците SRK и SOB добиваме:

$$\overline{RK} = \frac{\overline{SR}}{\overline{SO}} \overline{OB} = \frac{2}{3} \cdot \frac{a\sqrt{2}}{2} = \frac{a\sqrt{2}}{3}.$$

На крајот, бараниот волумен ќе биде:

$$V = \frac{2}{3} P_{ASM} \cdot \overline{RK} = \frac{a^3\sqrt{2}}{18}.$$

