

## КОНСТРУКЦИЈЕ САМО ШЕСТАРОМ (БЕЗ ЛЕЊИРА)

*Миограж Мишић, Кражујевац*

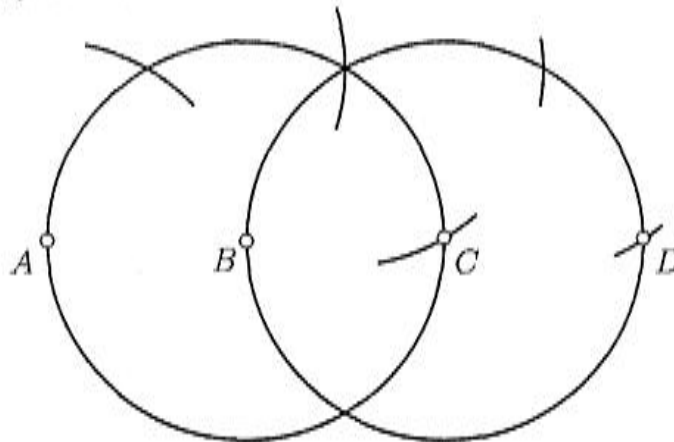
Геометријским конструкцијама математичари су се бавили од давнина. При томе су обично коришћени лењир и шестар<sup>2</sup>. Много је математичара који су се питали да ли се нека конструкција изведена с оба поменута инструмента може добити коришћењем само једним од њих.

Италијански математичар Лоренцо Маскерони (Lorenzo Mascheroni, 1750–1800), у својој књизи *Geometria del compasso*<sup>3</sup> (Pavia 1797), доказао је: *све геометријске (еуклидске) конструкције које се могу извести лењиром и шестаром могу се извести и само шестаром*.

Двадесетих година прошлог века један дански математичар је пронашао књигу *Euclidus Danicus*<sup>4</sup> из 1772. године, данског математичара Георга Мора (Georg Mohr, 1640–1697), у којој су дате еуклидске геометријске конструкције изведене само шестаром. Сматра се да Лоренцо Маскерони није знао за ове резултате.

С друге стране, француски математичар Жан Виктор Понселе (Jean Victor Poncelet, 1788–1867), који се бавио пројективном геометријом, доказао је 1822. године да се све конструкције које се могу извести лењиром и шестаром могу извести и само помоћу лењира, ако је у равни цртежа дата фиксирана кружница са својим центром.

Но, вратимо се конструкцијама само шестаром. Ево једне веома једноставне. Помоћу шестара, лако конструишемо дуж која је 2, 3, 4 и уопште  $n$  ( $n$  је произвољан природан број) пута дужа од дате дужи  $AB$ .



Наравно, помоћу шестара не можемо нацртати непрекидну праву линију, већ само можемо конструисати произвољан број тачака које припадају правој. Међутим, како је права одређена са две било које своје тачке, у геометрији шестара конструкција праве линије сматра се завршеном ако су конструисане две њене тачке.

**НАПОМЕНА.**<sup>5</sup> Добро је познато да се шестаром на кружници могу одредити темена

<sup>2</sup>Ограничење на лењир и шестар при геометријским конструкцијама потиче још од Еуклида.

<sup>3</sup>Геометрија шестара (круга)

<sup>4</sup>Дански Еуклид

<sup>5</sup>Милан Шипка, Приче о речима, Популарна лингвистика, Прометеј, Нови Сад, 2007

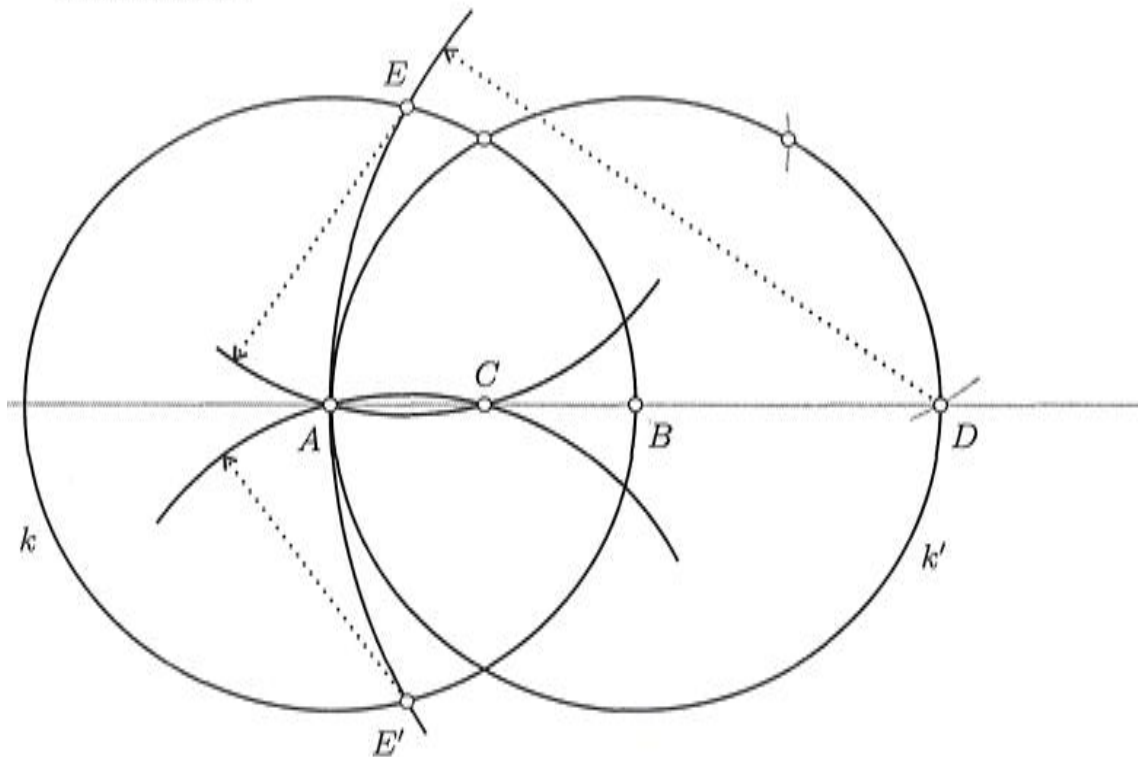
правилног шестоугла, то јест да се шестаром кружница може поделити на шест једнаких делова. У вези са овим је порекло речи *шестар*. Ову реч је створио наш обичан народ, а забележио ју је и Вук Караџић али и пре њега, неких стотину педесет година, још неки састављачи наших речника.

Други назив за шестар је *циркл*. Овај назив потиче из латинског језика, јер су стари Римљани круг називали *circulus*. Од ове речи је настала реч циркл, коју су усвојили Руси, Немци и многи други народи.

Кроз примере ћемо се упознати са *Геометријом шестара*.

### 1. Дату дуж $AB$ поделити на два једнака дела.

*Конструкција.*

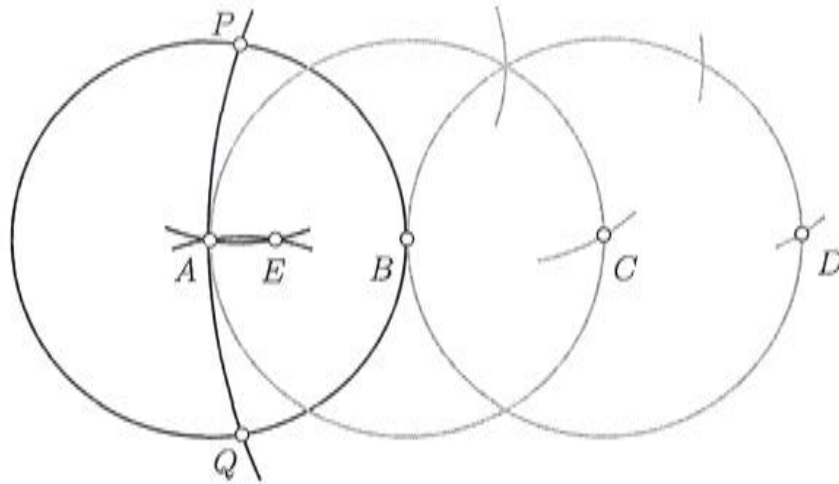


Најпре конструишемо кружнице  $k$  и  $k'$  чији су центри редом тачке  $A$  и  $B$  и полупречници једнаки  $AB$ . Затим, на правој  $AB$  треба одредити тачку  $D$  тако да је  $AD = 2AB$ . Нека кружница са центром у тачки  $D$  и полупречником  $AD$  сече кружницу  $k$  у тачкама  $E$  и  $E'$ . Тачка  $A$  је тачка пресека кружница полупречника  $AD$  чији су центри  $E$  и  $E'$ . Означимо са  $C$  другу пресечну тачку ових кружница. Тачка  $C$  је тражена средина дужи  $AB$ .

*Доказ.* Троуглови  $ACE$  и  $ADE$  су слични, јер су једнакокраки и имају једнак угао на својим основицама:  $\sphericalangle EAC \cong \sphericalangle EAD$ . Како је  $AE = AB$  и  $AD = 2AB$ , следи да мора бити и  $AB = 2AC$ .  $\square$

На потпуно аналоган начин, само шестаром конструишемо трећину, четвртину и уопште  $n$ -ти део неке задате дужи. На наредној слици је приказана конструкција трећина дате дужи  $AB$ . Најпре треба одредити тачку  $D$  на правој  $AB$  тако да је  $AD = 3AB$ . Затим конструишемо  $k(D, DA)$ . Нека је  $k(D, DA) \cap k(A, AB) = \{P, Q\}$ . Тражена тачка  $E$  је

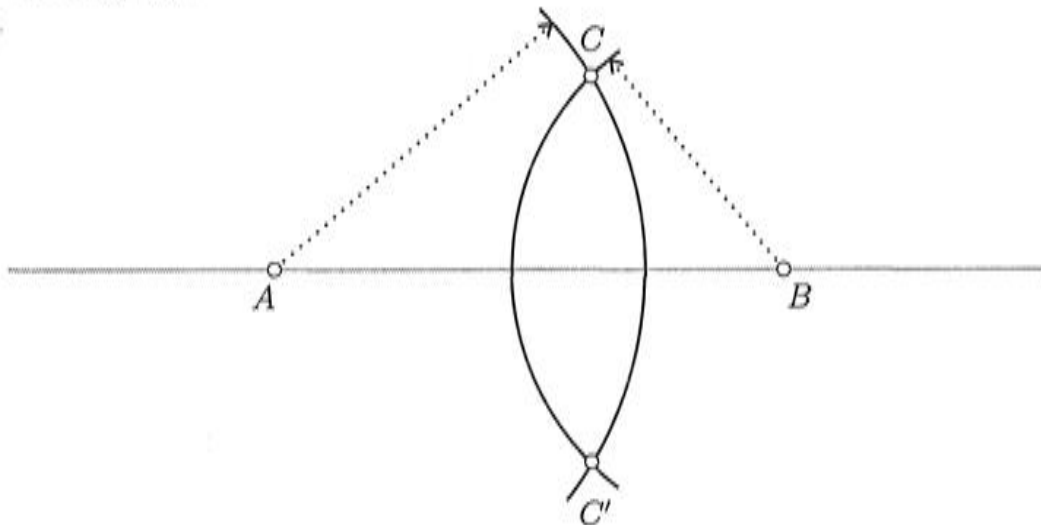
пресечна тачка кружница  $k(P, PA)$  и  $k(Q, QA)$ .



Остављамо читаоцима да докажу да конструисана тачка  $E$  заиста одређује трећину дужи  $AB$ .

**2. Одредити тачку  $C'$  симетричну датој тачки  $C$  у односу на дату праву  $AB$ .**

*Конструкција.*



Кроз дату тачку  $C$  треба конструисати кружнице са центрима у тачкама  $A$  и  $B$ . Друга тачка  $C'$  пресека тих кружница је тачка симетрична датој тачки  $C$ .

**3. Кроз дату тачку  $C$  конструисати праву паралелну датој правој  $AB$ .**

*Конструкција.*

У геометрији шестара, као што смо већ приметили, довољно је одредити бар још једну тачку тражене праве. Нејједноставније је одредити четврто теме (теме наспрам  $A$ ) паралелограма чије су две суседне стране  $AB$  и  $AC$ . Наравно, теме (наспрам  $B$ ) паралелограма чије су стране  $BA$  и  $BC$  је још једна тачка тражене праве.



тачкама  $A$  и  $B$  кружнице  $k$ .

*Доказ.* Приметимо најпре да су тачке  $C, O$  и  $D$  као и тачке  $H, O$  и  $G$  колинеарне и да леже на двама међусобно нормалним правима. Даље, како за (било који па и) паралелограм  $ABOC$  важи једнакост<sup>6</sup>:  $CB^2 + OA^2 = 2(AB^2 + AC^2)$  и како је  $AC = AO = R$ ,  $OC = AB$ ,  $CB = CH$  и  $OH = CE = d$ , следи

$$CB^2 + R^2 = 2(AB^2 + R^2), \quad \text{тј.} \quad CB^2 = 2 \cdot AB^2 + R^2.$$

Из троугла  $COH$ , који је правоугли следи да је

$$d^2 = OH^2 = CH^2 - CO^2 = CB^2 - AB^2,$$

што даје

$$d^2 = CB^2 - AB^2 = 2 \cdot AB^2 + R^2 - AB^2 = AB^2 + R^2.$$

Из троугла  $COE$ , који је такође правоугли, следи да је

$$OE^2 = CE^2 - CO^2 = d^2 - AB^2 = AB^2 + R^2 - AB^2 = R^2,$$

тј.  $OE = R$  и тиме је доказано да тачка  $E$  лежи на луку  $\widehat{AB}$  кружнице  $k$ . Лако се доказује да  $E$  дели дати лук на два једнака дела.  $\square$

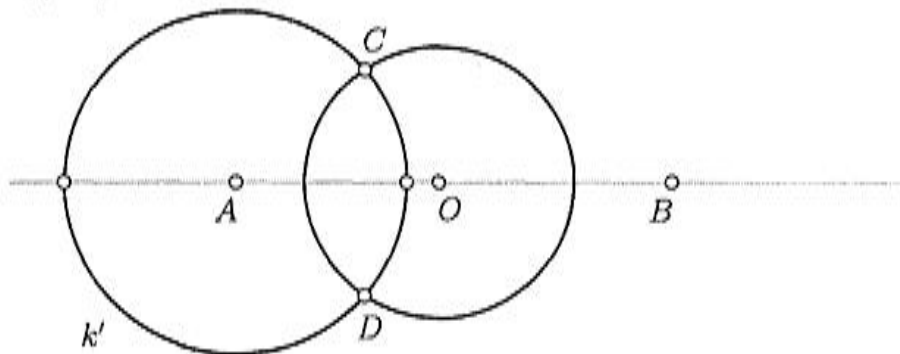
#### 5. Одредити тачку пресека дате кружнице $k(O, r)$ и дате праве $AB$ .

Могућа су два случаја:

- 5.1. центар кружнице припада датој правој;
- 5.2. центар кружнице не припада датој правој.

5.1. Нека центар  $O$  припада правој  $AB$ .

*Конструкција.*

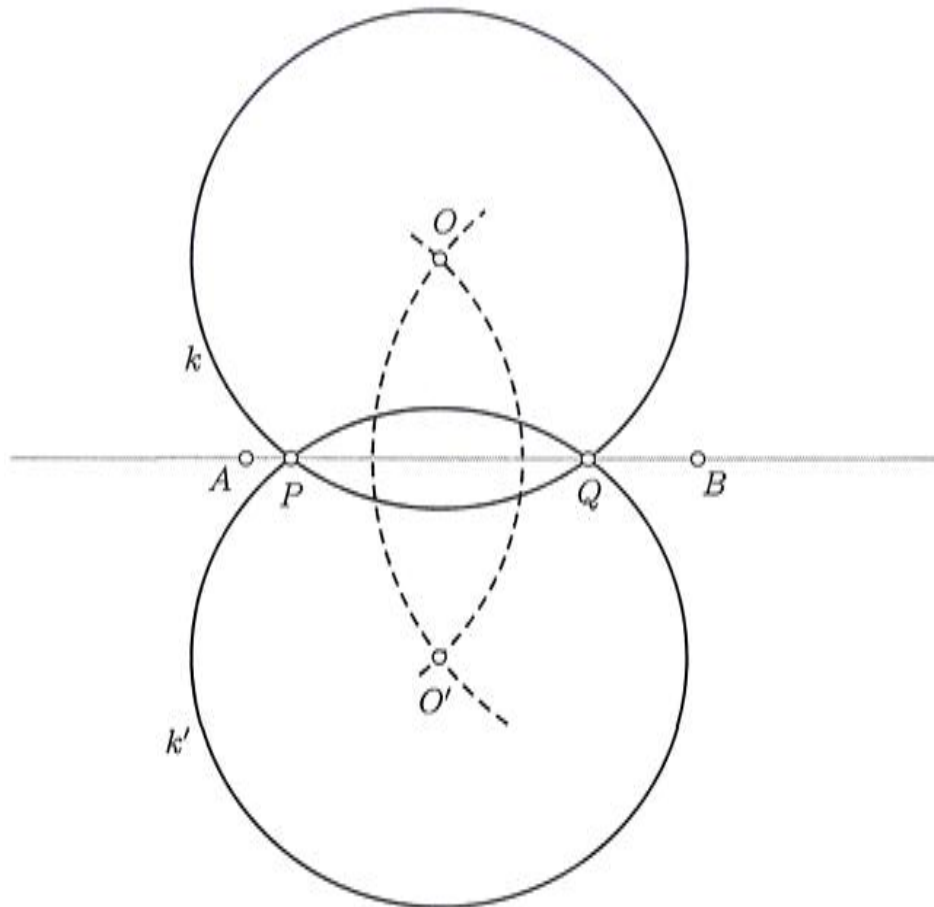


Најпре конструишемо кружницу  $k'$  са центром у тачки  $A$  произвољног полупречника тако да она сече дату кружницу у двама тачкама,  $C$  и  $D$ . Тражене тачке су средине лукова кружнице  $k'$  одређених тачкама  $C$  и  $D$ . Дакле, треба применити конструкцију из претходне тачке (4).

<sup>6</sup>Збир квадрата дијагонала једнак је двоструком збиру квадрата страница.

5.2. Нека центар  $O$  не припада правој  $AB$ .

*Конструкција.*



Тражене тачке  $P$  и  $Q$  су у пресеку дате кружнице  $k$  и њој, у односу на праву  $AB$ , симетричне кружнице  $k'$ . Центар  $O'$  кружнице  $k'$  је у пресеку кружница чији су центри у тачкама  $A$  и  $B$ , а полупречници редом  $AO$  и  $BO$ .

**6. Конструисати нормалу кроз дату тачку  $C$  на дату праву  $AB$ .**

Могућа су два случаја:

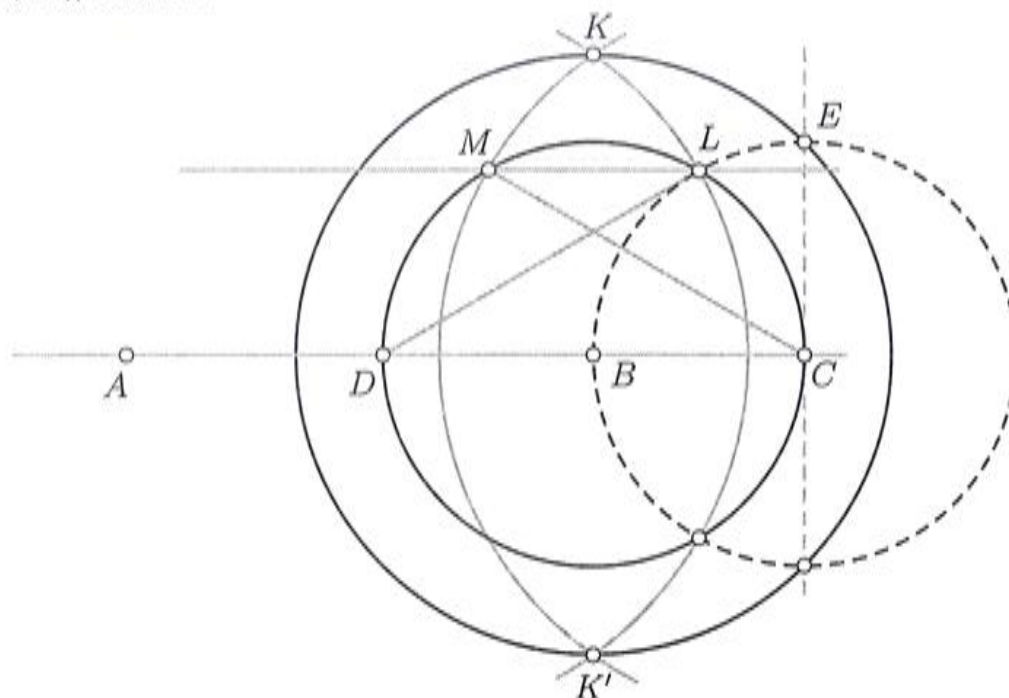
- 6.1. тачка  $C$  припада правој  $AB$ ;
- 6.2. тачка  $C$  не припада правој  $AB$ .

**6.1. Тачка  $C$  припада правој  $AB$ .**

*Конструкција.*

На кружници  $k(B, BC)$  најпре треба одредити тачке  $L, M$  и  $D$ , тако да буде  $CL = LM = MD = BC$ . Ове тачке су пресеци кружница са центрима у тачкама  $C, L$  и  $M$  полупречника  $BC$  и кружнице са центром у тачки  $B$ . Дужи  $MC$  и  $DL$  су једнаке и  $MC = DL = BC\sqrt{3}$ .

Тада је растојање пресека  $K$ , кружница са центрима у тачкама  $D$  и  $C$  полупречника  $BC\sqrt{3}$ , од тачке  $B$  једнако  $BC\sqrt{2}$ , тј. једнако је дужини дијагонала квадрата чија је страна  $BC$ . Тачка  $E$ , тражене нормале, пресек је кружница са центрима у тачкама  $B$  и  $C$  редом полупречника  $BC\sqrt{2}$  односно  $BC$ .



6.2. Ако тачка  $C$  не припада правој  $AB$ , тражена нормала  $n$  пролази кроз тачку  $C'$  симетричну тачки  $C$  у односу на праву  $AB$ .

7. Нека су  $a, b, c$  дужине трију датих дужи. Конструисати дуж чија је дужина  $x$  одређена пропорцијом  $a : b = c : x$ .

Треба разликовати три случаја:

7.1.  $c < 2a$ ;

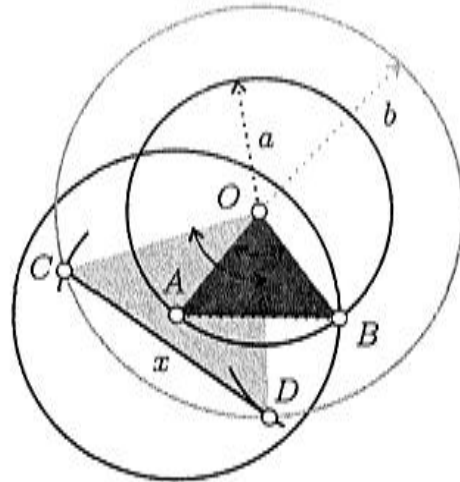
7.2.  $c \geq 2a, b < 2a$ ;

7.3.  $c \geq 2a, b \geq 2a$ .

7.1.  $c < 2a$ .

*Конструкција.*

У првом случају, када је  $c < 2a$ , најпре конструисамо две концентричне кружнице са центром  $O$  полупречника  $OA = a$  и  $OC = b$ . Затим, на  $k(O, a)$  бирамо произвољну тачку  $A$  и конструисамо кружницу  $k(A, c)$ . Нека је  $B$  друга тачка пресека кружница  $k(O, a)$  и  $k(A, c)$ . Најзад, конструисамо кружнице  $k(A, d)$  и  $k(B, d)$ , при чему је  $d > |b - a|$ . Нека су  $C$  и  $D$  пресечне тачке ових кружница са кружницом  $k(O, b)$  (види слику). Тада је дужина дужи  $CD$  једнака  $x$ .



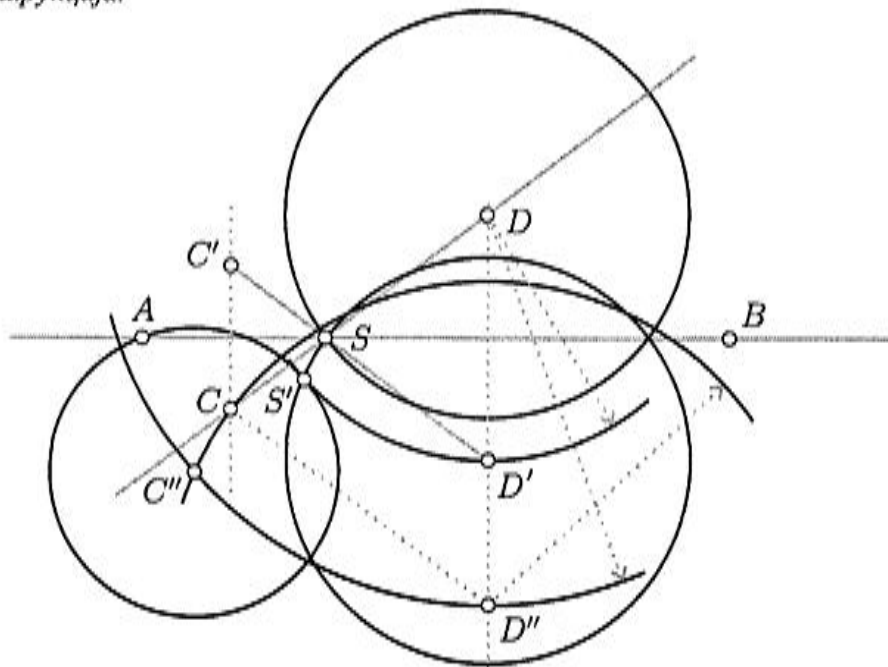
*Доказ.* Лако се види да су троуглови  $OAC$  и  $OBD$  подударни, па су стога једнаки углови  $\sphericalangle AOC$  и  $\sphericalangle BOD$ . Одатле следи да су и углови  $\sphericalangle AOB$  и  $\sphericalangle COD$  једнаки. Како су троуглови  $AOB$  и  $COD$  једнакокраки, они су слични, па важи пропорција:  $OA : AB = OC : CD$ , тј.  $a : c = b : x$ .  $\square$

**7.2.** У другом случају се посматра пропорција  $a : c = b : x$  и примењује поступак из случаја 7.1.

**7.3.** У трећем случају, такође се користи поступак из случаја 7.1, тј. конструише се дуж дужине  $y$  тако да је  $(na) : b = c : y$ , при чему је  $n$  природан број такав да је  $c < 2na$ . Затим се примењује исти поступак да би се конструисала дуж дужине  $x = ny$ .

**8. Одредити пресек  $S$  две дате праве  $AB$  и  $CD$ .**

*Конструкција.*





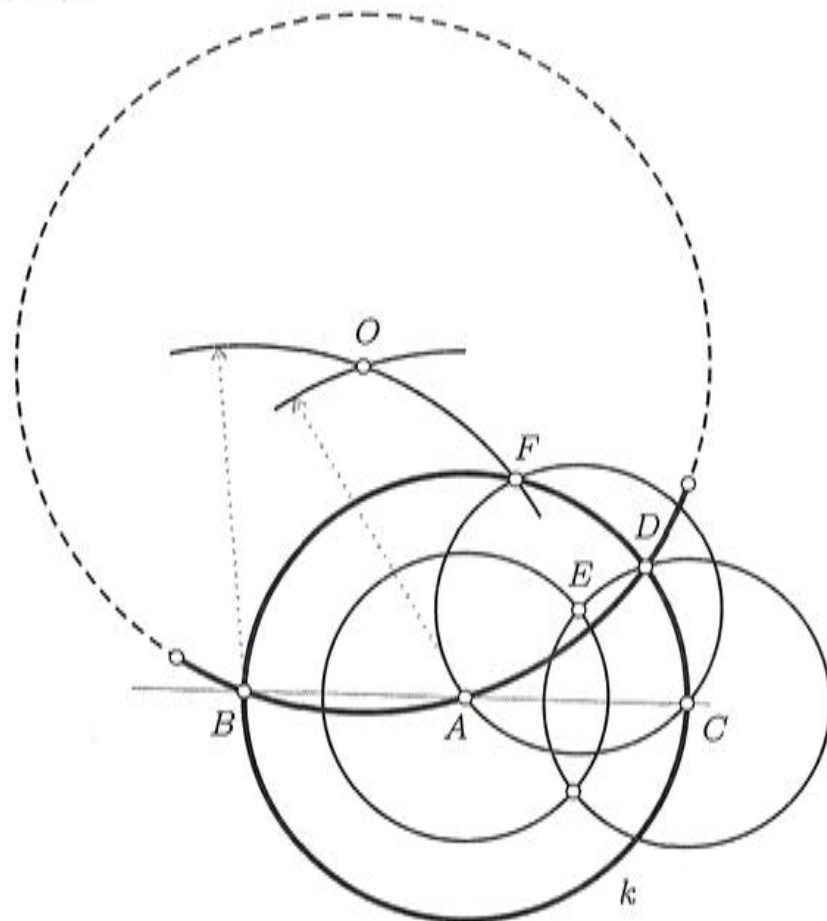
Најпре конструишемо тачке  $C'$  и  $D'$  симетричне редом тачкама  $C$  и  $D$  у односу на праву  $AB$  (конструкција 2). Нека је  $D''$  теме паралелограма над дужима  $C'C$  и  $C'D$  које је наспрам  $C'$ . Тада су тачке  $D, D'$  и  $D''$  колинеарне.

Приметимо да тачка  $S$ , коју треба конструисати, припада правој  $C'D'$  као и да су троуглови  $DSD'$  и  $DCD''$  слични. Из сличности следи пропорција  $DD' : DD'' = D'S : D''C$ . Применом поступка из претходне тачке (7), можемо конструисати дуж чија је дужина  $D'S$ .

Нека је  $C''$  једна од пресечних тачака кружница  $k(D, DD'')$  и  $k(D'', D''C)$ . Даље, нека је  $S'$  тачка додира кружница  $k(D, DD'')$  и  $k(C'', D'D'')$ . Тада важи пропорција  $DD' : DD'' = D'S' : D''C''$ . Како је  $D''C'' = D''C$ , из уочених пропорција следи да је  $D'S' = DS$ . Дакле, тражена тачка  $S$  је одговарајућа пресечна тачка кружница  $k(D', D'S')$  и  $k(D, D'S')$ .

**9. Одредити центар  $O$  кружнице, ако је дат неки њен лук  $\ell$ .**

*Конструкција.*



Нека је  $A$  произвољна тачка датог лука  $\ell$  и нека су  $B$  и  $D$  пресечне тачке лука  $\ell$  и кружнице  $k$  са центром у тачки  $A$  произвољног полупречника. На кружници  $k$  одредимо тачку  $C$  дијаметрално супротну тачки  $B$ . Нека је  $E$  тачка пресека кружница  $k(A, CD)$  и  $k(C, CD)$  која се налази унутар кружнице  $k$ . Даље, нека је  $F$  пресечна тачка кружница  $k(E, CD)$  и  $k$ . Дуж  $BF$  је полупречник кружнице која садржи дати лук  $\ell$ . Центар  $O$  ове кружнице је пресек двеју кружница полупречника  $BF$  чији су центри у тачкама  $B$  и  $A$ .

*Доказ.* Приметимо најпре да су једнакокраки троуглови  $ACE$  и  $AEF$  подударни, јер су им одговарајуће странице једнаке. Тада важи и следећа једнакост углова:  $\sphericalangle EAF = \sphericalangle ACE$ . Из ове једнакости се једноставно добија и да је  $\sphericalangle BAF = \sphericalangle AEC$ . Једнакокраки троуглови  $ABF$  и  $ACE$  су слични, па стога важи пропорција:

$$BF : AB = AC : CE, \quad \text{или} \quad BO : AB = AC : CD.$$

Из ове пропорције следи да су и једнакокраки троуглови  $ABO$  и  $ACD$  слични, па важи

$$\sphericalangle BAO = \sphericalangle ACD = \frac{1}{2} \sphericalangle BAD = \sphericalangle DAO.$$

Одавде даље следе једнкости:

$$\sphericalangle BAD = \sphericalangle ADC + \sphericalangle ACD = 2\sphericalangle ACD = 2\sphericalangle BAO.$$

а пошто је  $\sphericalangle BAO = \sphericalangle DAO$ , следи да су троуглови  $ABO$  и  $ADO$  подударни. Зато је  $BO = AO = DO$ , па је тачка  $O$  центар тражене кружнице.  $\square$

\* \* \*

## ЗАДАЦИ

1. Дата је права  $AB$ . Наћи тачку  $C$ , тако да права  $AC$  буде нормална на  $AB$ .
2. Дата је права  $AB$  и дуж  $d$ . Конструисати праву паралелну са  $AB$  тако да растојање између ових правих буде једнако  $d$ .
3. Решите следећи Наполеонов задатак. Наиме, Наполеон Бонапарта је француским математичарима поставио проблем да поделе дату кружницу на четири једнака дела само шестаром.

\* \* \*

## ЛИТЕРАТУРА

- [1] Matematička čitanka, u redakciji prof. Milenka Sevdica, Mascheronijeve konstrukcije u vezi sa pravilnim mnogouglovima, Zagreb, 1947.
- [2] FLORIAN CAJORI, *A History of Mathematics*, Chelsea Publishing Company, New York, 1985.