

XXX РЕПУБЛИЧКИ НАТПРЕВАР ПО МАТЕМАТИКА ЗА УЧЕНИЦИТЕ ОД ОСНОВНОТО ОБРАЗОВАНИЕ

VI одделение

1. Три групи пошумувале еден дел од рид. Првата група насадила $\frac{7}{20}$ од сите садници, втората $\frac{3}{5}$ од останатите, а третата преостанатите 260 садници. Колку вкупно садници биле посадени?

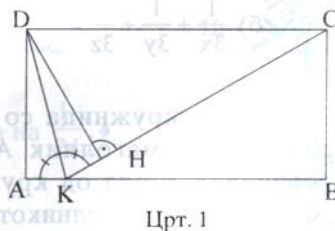
Решение. Да го означиме со x вкупниот број на садници што биле посадени. Според условот во задачата имаме $x - \frac{7}{20}x - \frac{3}{5}(x - \frac{7}{20}x) = 260$, од каде што добиваме дека $x = 1000$. ♦

2. Производот на два двоцифрени броја е 4032. Вториот број е запишан со истите цифри како и првиот, но во обратен редослед. Кои се тие броеви?

Решение. Да ги означиме со \overline{ab} и \overline{ba} дадените двоцифрени броеви. Тогаш, од условот во задачата, имаме $\overline{ab} \cdot \overline{ba} = 4032 = 2^6 \cdot 3^2 \cdot 7$. Оттука следува дека 3 е делител на двата броја \overline{ab} и \overline{ba} (бидејќи ако едниот од нив е делив со 9 тогаш и другиот ќе биде делив со 9, односно производот на двата броја е делив со 81, што е неточно). Уште, 7 е делител на само еден од броевите на пример на \overline{ab} . Значи 21 е делител на \overline{ab} , односно $\overline{ab} \in \{21, 42, 84\}$. Со проверка се добива дека бараните броеви се 84 и 48. ♦

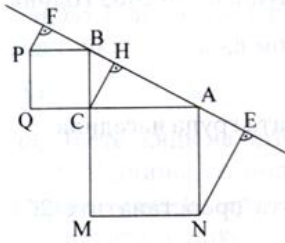
3. Даден е правоаголник ABCD во кој важи $\overline{AB} = 2\overline{BC}$. На страната AB е избрана точка K, таква што $\angle AKD = \angle DKC$. Најди го овој агол.

Решение. Да ја повлечеме висината DH на триаголникот KCD (црт.1). Триаголниците KDA и KDH се складни (правоаголници со



заедничка страна KD и $\angle AKD = \angle DKC$), а оттука $\overline{DH} = \overline{DA} = \frac{\overline{DC}}{2}$. Бидејќи триаголникот CDH е правоаголен, со катета \overline{DH} два пати помала од хипотенузата \overline{DC} , добиваме дека $\angle HCD = 30^\circ$. Тогаш $\angle CKB = \angle HCD = 30^\circ$, а оттука $\angle CKA = 150^\circ$. Значи $\angle AKD = \angle DKC = 75^\circ$. ♦

4. Даден е правоаголен триаголник ABC. Над катетите BC и CA, конструирани се квадрати ACMN и CBPQ, надвор од триаголникот. Нека со



Црт. 2

Е и F се означени подножјата на нормалите од точките N и P на правата AB, соодветно. Докажи дека важи равенството $\overline{NE} + \overline{PF} = \overline{AB}$.

Решение. Да ја повлечеме висината CH на триаголникот ABC (црт. 2). Тогаш добиваме дека $\angle FBP = 90^\circ - \angle HBC = \angle HCB$, $\angle BFP = 90^\circ = \angle CHB$ и $\overline{PB} = \overline{BC}$, од каде што следува дека триаголниците PBF и BCH се складни. Затоа $\overline{PF} = \overline{BH}$. Слично, од

складноста на триаголниците SAN и ANE, имаме $\overline{NE} = \overline{AN}$. Конечно, $\overline{NE} + \overline{PF} = \overline{AN} + \overline{BH} = \overline{AB}$. ♦

VII одделение

1. Нека за ненултите броеви a, b, c, x, y и z важат равенствата

$$x = bc + \frac{1}{a}, \quad y = ca + \frac{1}{b}, \quad z = ab + \frac{1}{c} \quad \text{и} \quad ax + by + cz = 1.$$

а) Пресметај го производот abc;

б) Докажи дека $a + b + c = \frac{1}{3x} + \frac{1}{3y} + \frac{1}{3z}$.

Решение. а) Од $1 = ax + by + cz = abc + 1 + abc + 1 + abc + 1$ следува дека

$$abc = -\frac{2}{3}.$$

$$\text{б) } \frac{1}{3x} + \frac{1}{3y} + \frac{1}{3z} = \frac{a}{3abc + 3} + \frac{b}{3abc + 3} + \frac{c}{3abc + 3} = \frac{a + b + c}{3(-\frac{2}{3}) + 3} = a + b + c. \quad \blacklozenge$$

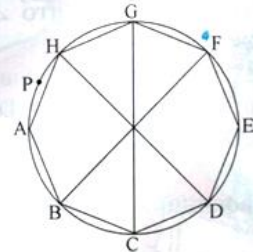
2. Во кружница со радиус 1cm е впишан правилен осумаголник ABCDEFGH. Нека P е произволна точка од кружницата, различна од темињата на осумаголникот. Колку е збирот

$$\overline{PA}^2 + \overline{PB}^2 + \overline{PC}^2 + \overline{PD}^2 + \overline{PE}^2 + \overline{PF}^2 + \overline{PG}^2 + \overline{PH}^2?$$

Решение. Аголот APE е агол над дијаметар и затоа е прав агол (црт.3). Тогаш

$$\overline{PA}^2 + \overline{PE}^2 = \overline{AE}^2 = 2^2 = 4. \quad \text{Слично, } \overline{PB}^2 + \overline{PF}^2 = 4, \quad \text{и}$$

$$\overline{PD}^2 + \overline{PH}^2 = 4. \quad \text{Затоа, } \overline{PA}^2 + \overline{PB}^2 + \overline{PC}^2 + \overline{PD}^2 + \overline{PE}^2 + \overline{PF}^2 + \overline{PG}^2 + \overline{PH}^2 = 16. \quad \blacklozenge$$



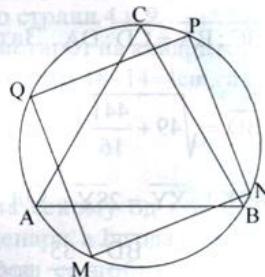
Црт. 3

3. За броевите x и y , $0 < x < y$, важи равенството $x^2 + 4y^2 = 5xy$,
Пресметај ја вредноста на изразот $\frac{x+2y}{x-2y}$.

Решение. Од равенствата $(x+2y)^2 = x^2 + 4y^2 + 4xy = 9xy$ и $(x-2y)^2 = x^2 + 4y^2 - 4xy = xy$ добиваме дека $\left(\frac{x+2y}{x-2y}\right)^2 = 9$, односно $\frac{x+2y}{x-2y} = \pm 3$. Од $0 < x < y$ следува дека $x+2y > 0$, а од $x < 2x < 2y$ следува $x-2y < 0$. Затоа $\frac{x+2y}{x-2y} < 0$, а оттука $\frac{x+2y}{x-2y} = -3$. ♦

4. Рамностран триаголник и квадрат се впишани во една иста кружница, така што темињата на триаголникот и на квадратот не се совпаѓаат. Сите темиња ја сечат кружницата на 7 кружни лаци. Докажи дека некој од тие кружни лаци има должина помала или еднаква на $\frac{1}{24}$ од периметарот на кружницата.

Решение. Нека рамностраниот триаголник е ABC (црт. 4). A , B и C ја делат кружницата на три лаци. Бидејќи квадратот $MNPQ$ и ABC имаат различни темиња, две од темињата на квадратот се на еден од трите лаци (на цртежот N и P се на лакот



BC кој не ја содржи A). Тогаш, од $\widehat{BC} = \frac{L}{3}$ и $\widehat{PN} = \frac{L}{4}$,

$\widehat{BN} + \widehat{PC} = \frac{L}{3} - \frac{L}{4} = \frac{L}{12}$. Значи, барем еден од лациите

Црт. 4

\widehat{BN} или \widehat{PC} има должина помала или еднаква на $\frac{L}{24}$. ♦

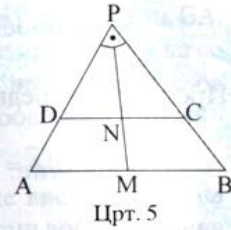
VIII одделение

1. Претстави го бројот 2005 како збир на последователни природни броеви, на сите можни начини.

Решение. Од $x + (x+1) + \dots + (x+k-1) = 2005$ добиваме дека $k(2x+k-1) = 1 \cdot 2 \cdot 5 \cdot 401$. Оттука $k = 2, 5, 10$ односно $2005 = 1002 + 1003$, $2005 = 399 + 400 + 401 + 402 + 403$ и $2005 = 196 + \dots + 205$. ♦

2. Во траpez ABCD важи $\angle DAB + \angle CBA = 90^\circ$. Докажи дека отсечката што ги поврзува средините на основите има должина еднаква на половината од разликата на основите.

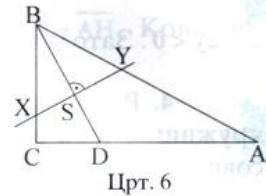
Решение. Нека M и N се средини на основите, а P е пресечната точка на продолженијата на краците на траpezот (црт.5). Тогаш P, N и M се колинеарни точки и



триаголниците ABP и DCP се правоаголни. Затоа $\overline{MP} = \overline{MA} = \frac{a}{2}$, $\overline{NP} = \overline{ND} = \frac{b}{2}$

а оттука $\overline{MN} = \overline{MP} - \overline{NP} = \frac{a-b}{2}$. ♦

3. Должините на страните на триаголник ABC се $\overline{AB} = 25\text{cm}$, $\overline{BC} = 7\text{cm}$ и $\overline{AC} = 24$. Симетралата на аголот кај темето B ја сече страната AC во точка D. Симетралата на отсечката BD ја сече BC во X, а AB во Y. Најди ја должината на отсечката XY.



Решение. Од обратната теорема на Теоремата на Питагора следува дека триаголникот ABC е правоаголен со прав агол кај темето C (црт.6). Бидејќи BD е симетрала на аголот CBA важи

$\overline{BC} : \overline{BA} = \overline{CD} : \overline{DA}$. Затоа $24 = \overline{CD} + \frac{25}{7}\overline{CD} = \frac{32}{7}\overline{CD}$, односно $\overline{CD} = \frac{21}{4}$. Тогаш

$\overline{BD} = \sqrt{49 + \frac{441}{16}} = \frac{35}{4}$. Бидејќи триаголниците YBS и XBS се складни, следува

дека $\overline{XY} = 2\overline{SY}$. Од сличноста на триаголниците YBS и DBC и од

$\overline{BS} = \overline{SD} = \frac{\overline{BD}}{2} = \frac{35}{8}$ добиваме $\overline{BS} : \overline{BC} = \overline{SY} : \overline{CD}$, $\overline{XY} = \frac{21 \cdot 35}{4 \cdot 4 \cdot 7} = \frac{105}{16}\text{cm}$. ♦

4. Најди ги сите прости броеви p и q и природни броеви n за кои важи p е делител на q-1 и q^n е делител на p^2-1.

Решение. Нека $p|q-1$ и $q^n|p^2-1$. Тогаш $p \leq q-1$ и $q^n \leq p^2-1$, од каде што $q^n \leq p^2-1 \leq (q-1)^2-1 = q^2-2q$. Неравенството $q^n \leq q^2-2q$ не важи за $n \geq 2$. Значи $n=1$, односно $q|(p-1)(p+1)$. Ако $q|p-1$ тогаш $q \leq p-1 \leq q-2$, што е невозможно. Тогаш $q|p+1$, а од $q \leq p+1 \leq q$ следува $q=p+1$. Последното равенство важи само за $p=2$ и $q=3$. Значи, единствено решение е $n=1$, $p=2$, $q=3$. ♦