

## ОСАМ РЕШЕЊА ЈЕДНОГ ЗАДАТКА О ПРАВИЛНОМ СЕДМОУГЛУ

*Драžoљуб Милошевић, Горњи Милановац*

Реч је о следећем задатку: Докажи да у правилном седмоуглу  $ABCDEFGG$  важи једнакост

$$\frac{1}{AB} = \frac{1}{AC} + \frac{1}{AD}.$$

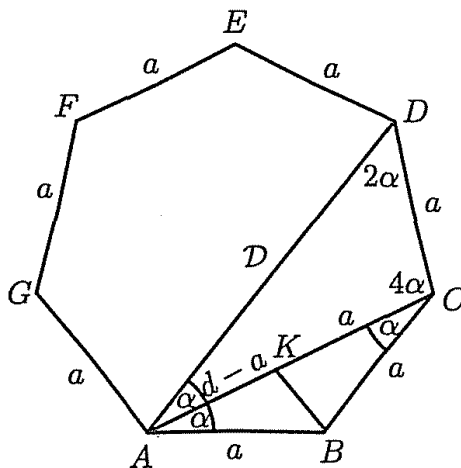
**Решење 1.** Ако са  $a$ ,  $d$  и  $D$  означимо редом дужине странице, мање дијагонале и веће дијагонале правилног седмоугла, наведена једнакост постаје

$$\frac{1}{a} = \frac{1}{d} + \frac{1}{D},$$

што је еквивалентно са

$$(*) \quad Dd = a(D + d).$$

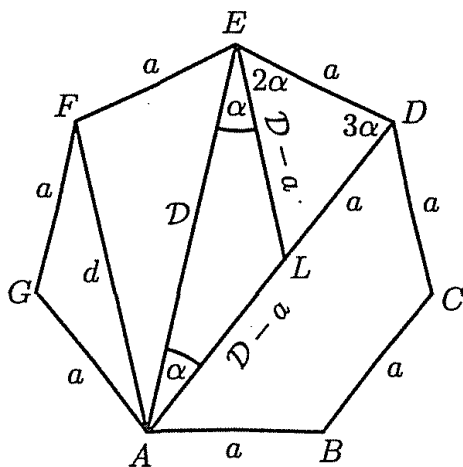
Нека је  $2\alpha$  величина централног угла над страницом датог седмоугла. Тада је  $2\alpha = \frac{2\pi}{7}$ , тј.  $\alpha = \frac{\pi}{7}$ . Одговарајући периферијски угао једнак је  $\alpha$ . С обзиром да је спољашњи угао једнак централном углу, тј.  $2\alpha$ , то је унутрашњи угао правилног седмоугла  $7\alpha - 2\alpha = 5\alpha$ . Тада је  $\angle ACD = \angle BCD - \angle ACB = 5\alpha - \alpha = 4\alpha$  (слика 1).



Слика 1.

Због  $\angle CAD = \alpha$  и  $\angle ACD = 4\alpha$ , у троуглу  $ACD$  је  $\angle CDA = 7\alpha - (\alpha + 4\alpha) = 2\alpha$ . Значи, углови наспрам страница  $a$ ,  $d$  и  $D$  троугла су редом:  $\alpha$ ,  $2\alpha$ ,  $4\alpha$ . На дијагонали  $AC$  одредимо тачку  $K$  тако да је  $CK = BC = a$ , што значи да је  $AK = d - a$ . Углови једнакокраког троугла  $BCK$  су  $\angle BCK = \alpha$  и  $\angle CBK = \angle CKB = 3\alpha$ , па је  $\angle AKB = 4\alpha$ . Због  $\angle BAK = \alpha$  и  $\angle AKB = 4\alpha$  је  $\angle ABK = 2\alpha$ . Троуглови  $ABK$  и  $ACD$  имају једнаке углове, па су слични. Из те сличности произлази  $AB : AD = AK : AC$ , или  $a : D = (d - a) : d$ , одакле је  $Dd = a(D + d)$ , тј.  $(*)$ .

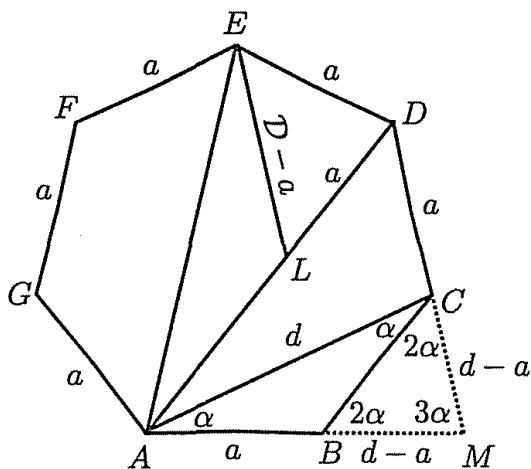
**Решење 2.** На већој дијагонали  $AD$  одредимо тачку  $L$  тако да је  $DL = DE = a$  (видети слику 2).



Слика 2.

Тада је  $AL = D - a$ . Како је троугао  $DEL$  једнакокраки и  $\angle LDE = 5\alpha - 2\alpha = 3\alpha$ , следи да је  $\angle DEL = \angle DLE = 2\alpha$ . Троугао  $ADE$  је, такође, једнакокраки ( $AD = AE = D$ ), па је  $\angle AED = \angle LDE = 3\alpha$  и  $\angle LEA = \angle AED - \angle DEL = \alpha$ . То, пак, значи да је и  $\triangle ALE$  једнакокраки, тј.  $EL = LA = D - a$ . Троуглови  $ALE$  и  $AFG$  су слични, па је  $AE : AF = AL : AG$ , односно  $D : d = (D - a) : a$ . Одавде произлази једнакост (\*).

**Решење 3.** Продужимо страну  $AB$  до тачке  $M$  тако да  $AM = AC = d$  (слика 3).



Слика 3.

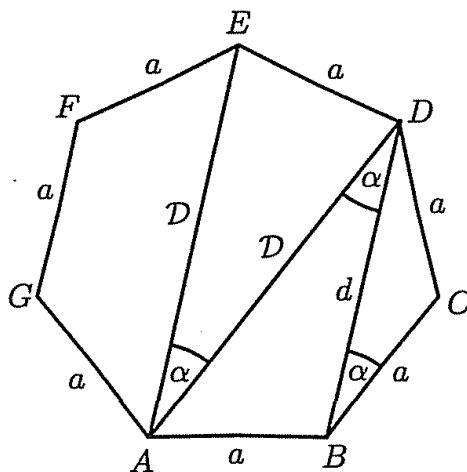
Тада је  $BM = d - a$ . Троугао  $AMC$  је једнакокраки, па је  $\angle AMC = \angle ACM = (7\alpha - \alpha) : 2 = 3\alpha$ . Због  $\angle ACB = \alpha$ ,  $\angle ACM = 3\alpha$  и  $\angle BCM = \angle ACM - \angle ACB$ , имамо  $\angle BCM = 2\alpha$ . Како је и  $\angle CBM = 2\alpha$ , закључујемо да троуглови  $BCM$  и  $DEL$  имају једнаке углове, па је  $\triangle BCM \sim \triangle DEL$ . Тада је  $BC : EL = BM : DL$ , или  $a : (D - a) = (d - a) : a$ . Отуда је  $Dd = aD + ad$ , тј. (\*).

**Решење 4.** На основу косинусне теореме примењене на троугао  $B CD$  (слика 4), имамо

$$a^2 = a^2 + d^2 - 2ad \cos \alpha,$$

тј.

$$(1) \quad \cos \alpha = \frac{d}{2a}.$$



Слика 4.

Применом исте теореме на троуглове  $ABD$  и  $ADE$  добијамо

$$(2) \quad a^2 = D^2 + d^2 - 2Dd \cos \alpha$$

и

$$(3) \quad a^2 = D^2 + D^2 - 2D^2 \cos \alpha.$$

Имајући у виду једнакост (1), из једнакости (2) и (3) следи да је

$$(4) \quad a^3 = aD^2 + ad^2 - d^2D$$

и

$$(5) \quad a^3 = 2aD^2 - dD^2.$$

Из (4) и (5) произлази да је  $aD^2 + ad^2 - d^2D = 2aD^2 - dD^2$ , или  $Dd(D - d) = a(D^2 - d^2)$ . Из последње једнакости, због  $D^2 - d^2 = (D - d)(D + d)$  и  $D - d \neq 0$ , следи тражена једнакост (\*).

#### Решење 5.

**Лема** (помоћна теорема). Нека су  $a, b$  и  $c$  странице троугла  $ABC$ , и  $\alpha, \beta, \gamma$  редом наспрамни углови. Ако је  $\alpha = 2\beta$ , онда је  $a^2 = b(b + c)$ .

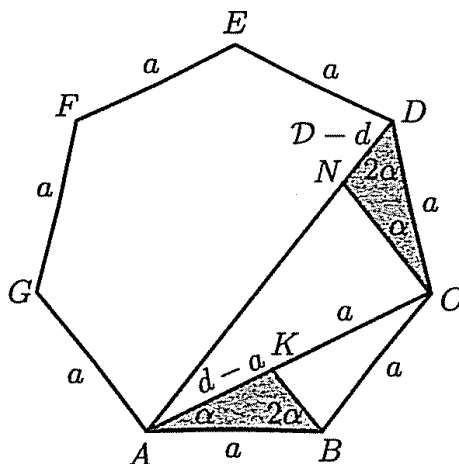
Доказ леме препуштамо читаоцу (видети [3], стране 65 и 113). Ако наведену лему применимо два пута на троугао  $ACD$  (слика 1) имамо да је  $D^2 = d(d+a)$  и  $d^2 = a(a+D)$ , тј.

$$D^2 - d^2 = ad \quad \text{и} \quad d^2 - a^2 = aD.$$

Сабирањем ових једнакости добијамо

$$(6) \quad D^2 - a^2 = a(D+d).$$

На дијагонали  $AD$  одредимо тачку  $N$  тако да је  $AN = d$ . Тада је  $DN = D - d$  (слика 5).



Слика 5.

Одредимо и тачку  $K$  као у решењу 1. Троуглови  $ABK$  и  $CDN$  су подударни (правило СУС), па је  $CN = AK = d - a$ . Применом наведене леме на  $\triangle CDN$  имамо  $(d - a)^2 = (D - d)(D - d + a)$ , тј.

$$(7) \quad D - a^2 = 2Dd - a(D + d).$$

Из (6) и (7) следи

$$a(D + d) = 2Dd - a(D + d),$$

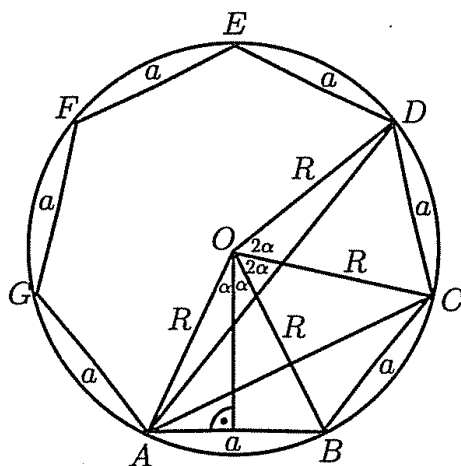
тј.  $Dd = a(D + d)$ .

**Решење 6.** С обзиром да је  $a = 2R \sin \alpha$ ,  $d = 2R \sin \alpha$  и  $D = 2r \sin 3\alpha$  (слика 6), једнакост (\*) еквивалентна је са

$$\frac{1}{\sin \alpha} = \frac{1}{\sin 2\alpha} + \frac{1}{\sin 3\alpha},$$

тј. са

$$(8) \quad \sin 2\alpha \sin 3\alpha = \sin \alpha (\sin 2\alpha + \sin 3\alpha).$$



Слика 6.

Како је  $\sin 2\alpha = 2 \sin \alpha \cos \alpha$  и  $\cos \alpha \sin 3\alpha = \frac{1}{2}(\sin 4\alpha + \sin 2\alpha)$ , једнакост (8) се претвара у  $\sin 4\alpha - \sin 3\alpha = 0$ , односно у

$$(9) \quad 2 \sin \frac{\alpha}{2} \cos \frac{7\alpha}{2} = 0.$$

Како је  $\frac{7\alpha}{2} = \frac{\pi}{2}$  и  $\cos \frac{\pi}{2} = 0$ , једнакост (9) је тачна, а самим тим је тачна једнакост (6), односно једнакост (\*).

### Решење 7.

**Молвајдова формула.** Ако су  $a, b$  и  $c$  странице троугла  $ABC$ , а  $\alpha, \beta, \gamma$  редом наспрамни углови, онда је

$$\frac{a+b}{c} = \frac{\cos \frac{\alpha-\beta}{2}}{\sin \frac{\gamma}{2}}.$$

Применом Молвајдове формуле на троугао  $ACF$ , имамо

$$(10) \quad \frac{D+d}{d} = \frac{\cos \frac{3\alpha-2\alpha}{2}}{\sin \frac{2\alpha}{2}} = \frac{\cos \frac{\alpha}{2}}{\sin \alpha}.$$

Применом синусне теореме на  $\triangle AMC$  (слика 3) добијамо

$$\frac{d-a}{\sin \alpha} = \frac{d}{\sin 3\alpha},$$

тј.

$$(11) \quad \frac{d-a}{d} = \frac{\sin \alpha}{\sin 3\alpha}.$$

С обзиром да је  $\sin 3\alpha = \sin\left(\frac{7\alpha}{2} - \frac{\alpha}{2}\right) = \cos \frac{\alpha}{2}$ , за  $\alpha = \frac{\pi}{7}$ , тада је

$$\frac{\cos \frac{\alpha}{2}}{\sin \alpha} \cdot \frac{\sin \alpha}{\sin 3\alpha} = 1,$$

па из једнакости (10) и (11) следи

$$\frac{D+d}{d} \cdot \frac{d-a}{d} = 1,$$

што је еквивалентно са (\*).

### Решење 8.

**Птоломејева теорема.** Производ дијагонала тетивног четвороугла једнак је збиру производа наспрамних страница. Другим речима, ако је  $ABCD$  тетивни четвороугао, онда је

$$AC \cdot BD = AB \cdot CD + BC \cdot DA.$$

Применом Птоломејеве теореме на тетивни четвороугао  $ACDE$  (слика 3), имамо

$$AD \cdot CE = AE \cdot CD + AC \cdot DE,$$

односно  $D \cdot d = D \cdot a + d \cdot a$ , одакле следи (\*).

## ЗАДАЦИ

- Докажите једнакост (\*) применом методе координата.
- У правилном многоуглу  $A_1A_2 \dots A_n$  важи једнакост

$$\frac{1}{A_1A_2} = \frac{1}{A_1A_3} + \frac{1}{A_1A_4}.$$

Одредите  $n$  ([2], страна 90).

## ЛИТЕРАТУРА

- [1] Ш. Арсланагић, Д. Милошевић, *Конверзија Птоломејеве теореме*, Тангента 3 (1995/96), 3-5.
- [2] Б. Дугошија, Ж. Ивановић, Л. Милин, *Тригонометрија*, уџбеник са збирком задатака за II разред Математичке гимназије, Круг, Београд, 1999.
- [3] С. Огњановић и др., *Збирка задатака из математике*, Стручна књига, Београд, 1984.

**Статијата прв пат е објавена во списанието ТАНГЕНТА на ДМ на Србија во 2011/12 година**