

**XIV РЕПУБЛИЧКИ НАТПРЕВАР ПО МАТЕМАТИКА
ЗА УЧЕНИЦИТЕ ОД ОСНОВНОТО ОБРАЗОВАНИЕ**

*Задачите и решенијата се скенирани од книгата
Десет години републички натпревари по математика '86-'95
подготвена од Илија Јанев, Никола Петрески и Милчо Аврамоски*

VII ОДДЕЛЕНИЕ

1. Докажи дека бројот $S = 4a^2 + 3a + 5$, каде што a е цел број, е делив со 6, ако и само ако a не е делив ниту со 2, ниту со 3.

2. Од чаша полна со млеко, Сашо испил една петина и ја дополнил со кафе. Потоа пак испил една петина од полната чаша и пак ја дополнил со кафе. Откако и по трет пат испил една петина од содржината на чашата, во неа останале 28 cm^3 повеќе млеко од кафе. Одреди го волуменот на чашата.

3. Во внатрешноста на рамностраниот триаголник ABC избрана е точка O , од која страната AC се гледа под агол од 150° . Докажи дека отсечките $m = \overline{OA}$, $n = \overline{OB}$ и $s = \overline{OC}$ се страни на правоаголен триаголник.

4. На страние AB и BC на ромбот $ABCD$, со остар агол од 60° , избрани се точките M и N , така што $\overline{MB} + \overline{BN} = \overline{AB}$. Точката P е симетрична на точката N во однос на правата CD . Докажи дека $AD \parallel MP$.

XIV (89.VII.1)

При делење на произволен цел број со 6, можни остатоци се: 0, 1, 2, 3, 4 или 5. Следствено, секој цел број a може да се запише (претстави) во еден од видовите:

$$a = 6k, \quad a = 6k + 1, \quad a = 6k + 2, \quad a = 6k + 3, \quad a = 6k + 4, \quad a = 6k + 5,$$

каде што $k \in \mathbb{N}_0$. Ке ја разгледаме одделно секоја од овие можности.

1) Нека $a = 6k$, т.е. a е делив и со 2 и со 3. Тогаш за S добиваме:

$$S = 4a^2 + 3a + 5 = 4 \cdot 36k^2 + 3 \cdot 6k + 5 = 6(24k^2 + 3k) + 5,$$

што значи дека S не е делив со 6 (има остаток 5).

2) Нека $a = 6k + 2$, т.е. a е делив со 2, тогаш за S наоѓаме:

$$\begin{aligned} S &= 4(36k^2 + 24k + 4) + 3(6k + 2) + 5 = 144k^2 + 114k + 27 = \\ &= 6(24k^2 + 19k + 4) + 3, \end{aligned}$$

т.е. S не е делив со 6.

3) Нека $a = 6k + 3$, т.е. a е делив со 3, тогаш:

$$S = 6(24k^2 + 27k + 8) + 2, \text{ т.е. } S \text{ не е делив со 6.}$$

4) Нека $a = 6k + 4$, т.е. a е делив со 2, тогаш:

$$S = 6(24k^2 + 35k + 13) + 3, \text{ т.е. } S \text{ не е делив со 6.}$$

5) Нека $a = 6k + 1$, т.е. a не е делив ни со 2, ни со 3, тогаш:

$$S = 4(36k^2 + 12k + 1) + 3(6k + 1) + 5 = 6(24k^2 + 11k + 2),$$

што значи дека S е делив со 6.

6) Нека $a = 6k + 5$, т.е. a не е делив ни со 2, ни со 3, тогаш:

$$S = 6(24k^2 + 43k + 20) \text{ е делив со 6.}$$

Од сето ова можеме да заклучиме дека S е делив со 6 ако и само ако a не е делив ниту со 2, ниту со 3.

XIV (89.VII.2)

Прв начин. Откако Сашо испил $\frac{1}{5}$ од млекото и со $\frac{1}{5}$ ја дополнил чашата со кафе, во неа ќе има 80% млеко и 20% кафе. Од оваа содржина Сашо испил $\frac{1}{5}$ од млекото и $\frac{1}{5}$ од кафето, т.е. од млекото испил 20% од постојните 80% млеко, па во чашата останале 64% од млекото. Следствено, содржината на кафето е 36%, т.е. за 28% помала од онаа на млекото. Бидејќи Сашо испил уште $\frac{1}{5}$ од чашата, во неа останале $\frac{4}{5}$ од содржината, при што количината на млекото е за 28 cm^3 поголема од количината на кафето. Значи, за волуменот V на чашата имаме:

$$\frac{4}{5} \cdot \frac{28}{100} V = 28, \quad V = 125 \text{ cm}^3.$$

Втор начин. Состојбата на млекото и кафето, во волуменски единици, ќе ја претставиме во следната табела:

	млеко	кафе
Во почетокот	1	0
По првото пиеење и долевање	$\frac{4}{5}$	$\frac{1}{5}$
По второто пиеење и долевање	$\frac{4}{5} \cdot \frac{4}{5} = \frac{16}{25}$	$\frac{4}{5} \cdot \frac{1}{5} + \frac{1}{5} = \frac{9}{25}$
По третото пиеење	$\frac{4}{5} \cdot \frac{16}{25} = \frac{64}{125}$	$\frac{4}{5} \cdot \frac{9}{25} = \frac{36}{125}$

Бидејќи разликата од овие волумени е 28 cm^3 , добиваме:

$$\left(\frac{64}{125} - \frac{36}{125} \right) V = 28, \quad V = 125 \text{ cm}^3.$$

XIV (89.VII.3)

Прв начин. Нека точката O е таква што страната AC на рамностраниот $\triangle ABC$ се гледа под агол од 150° (црт. 1). Треба да докажеме дека

отсечките $m = \overline{OA}$, $n = \overline{OB}$ и $s = \overline{OC}$ се страни на правоаголен триаголник. За таа цел го ротираме $\triangle AOC$ околу темето C за 60° и го добиваме триаголникот $\triangle BMC$; притоа:

$$\triangle AOC \cong \triangle BMC, \text{ т.е. } \overline{AO} = \overline{BM} = m.$$

Очигледно, триаголникот $\triangle COM$ е рамностран, бидејќи $\overline{CO} = \overline{CM}$ и $\angle OCM = 60^\circ$. Оттука следува дека: $\overline{OM} = \overline{OC} = s$ и $\angle OMC = 60^\circ$.

Следствено, страните на $\triangle BMO$ се еднакви на отсечките m , n и s и притоа $\angle BMO = \angle BMC - \angle OMC = 150^\circ - 60^\circ = 90^\circ$, т.е. отсечките m , n и s се страни на правоаголен триаголник.

Втор начин. Да конструираме рамностран триаголник над отсечката $\overline{CO} = s$; нека тоа е $\triangle COM$ (црт. 1). Ќе докажеме дека $\triangle AOC \cong \triangle BMC$. Имаме:

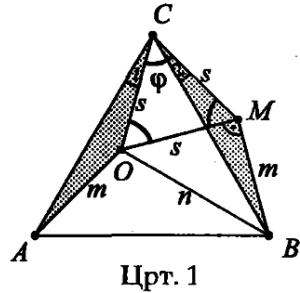
- 1) $\overline{AC} = \overline{BC}$ - како страни на ист рамностран триаголник;
- 2) $\angle 1 = \angle 2$, бидејќи $\angle 1 = 60^\circ - \varphi$ и $\angle 2 = 60^\circ - \varphi$;
- 3) $\overline{CO} = \overline{CM} = s$, по конструкција;

па според признакот САС следува дека $\triangle AOC \cong \triangle BMC$. Но, тогаш $\overline{BM} = \overline{AO} = m$, т.е. страните на $\triangle BMO$ се токму отсечките m , n , s .

Бидејќи $\angle BMC = \angle AOC = 150^\circ$ и $\angle OMC = 60^\circ$, следува дека

$$\angle BMO = \angle BMC - \angle OMC = 150^\circ - 60^\circ = 90^\circ,$$

т.е. $\triangle BMO$ е правоаголен. Значи, отсечките m , n , s - се страни на правоаголен триаголник.



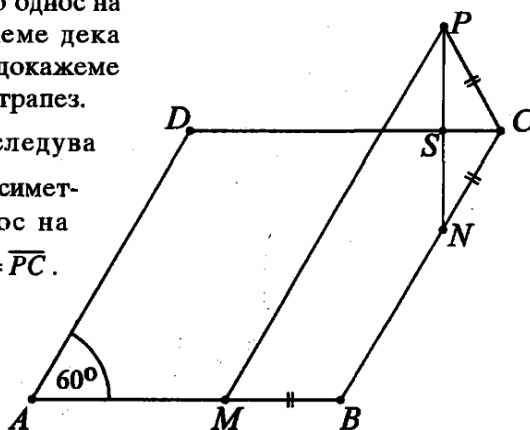
XIV (89.VII.4)

Нека точките M и N се избрани така што $\overline{MB} + \overline{BN} = \overline{AB}$ и нека точката P е симетрична на точката N во однос на правата CD . Треба да докажеме дека $MP \parallel AD$ (црт. 2). За таа цел ќе докажеме дека четириаголникот $PMBC$ е трапез.

Од $\overline{MB} + \overline{BN} = \overline{AB} = \overline{BC}$ следува $\overline{MB} = \overline{NC}$. Бидејќи точката P е симетрична на точката N во однос на правата CD , следува дека $\overline{NC} = \overline{PC}$.

Значи:

(1) $\overline{MB} = \overline{PC}$.



Црт. 2

Очигледно, $\angle ABC = 120^\circ$, а $\angle PCB = \angle PCS + \angle SCN = 60^\circ + 60^\circ = 120^\circ$.

Значи:

(2) $\angle MBC = \angle PCB$

Од (1) и (2) следува дека четириаголникот $PMBC$ е рамнокрак трапез, т.е. $MP \parallel BC$. Но $BC \parallel AD$, па конечно следува дека $MP \parallel AD$.

VIII ОДДЕЛЕНИЕ

1. Ако $a+b+c=1$, тогаш $a^2+b^2+c^2 \geq \frac{1}{3}$. Докажи!

2. Еден велосипедист тргнал од селото A кон градот B , оддалечен 28 km . Кога поминал 2 km , велосипедистот го стигнал камион, којшто по извесно време стигнал во градот B , се задржал во него 22 минути и на враќање кон селото A го сретнал велосипедистот на растојание 8 km од градот B . Одреди ги брзините на камионот и на велосипедистот, ако велосипедистот пристигнал во градот B во исто време кога и камионот пристигнал во селото A .

3. Од темето C на паралелограмот $ABCD$ ($\overline{AC} > \overline{BD}$) спуштени се нормалите CE и CF на продолжението на страните AB и AD . Докажи дека $\overline{AB} \cdot \overline{AE} + \overline{AD} \cdot \overline{AF} = \overline{AC}^2$.

4. Во правилна четириаголна пирамида со основен раб 12 cm и висина 8 cm , впишана е коцка, така што една нејзина страна лежи на основата на пирамидата, а четири темиња лежат на бочните рабови на пирамидата. Одреди го односот на плоштините на коцката и пирамидата.

XIV (89.VIII.1)

За кои било реални броеви x и y важи:

$$(x-y)^2 \geq 0, \quad x^2 + y^2 - 2xy \geq 0, \quad \text{т.е. } x^2 + y^2 \geq 2xy,$$

при што знакот за еднаквост важи само ако $x = y$.

Со квадрирање на равенството $a + b + c = 1$ добиваме:

$$a^2 + b^2 + c^2 + 2ab + 2bc + 2ca = 1$$

$$a^2 + b^2 + c^2 + (a^2 + b^2) + (b^2 + c^2) + (c^2 + a^2) \geq 1$$

$$3(a^2 + b^2 + c^2) \geq 1$$

$$a^2 + b^2 + c^2 \geq \frac{1}{3}$$

Притоа, знакот за еднаквост важи само ако $a = b = c = \frac{1}{3}$.

XIV (89.VIII.2)

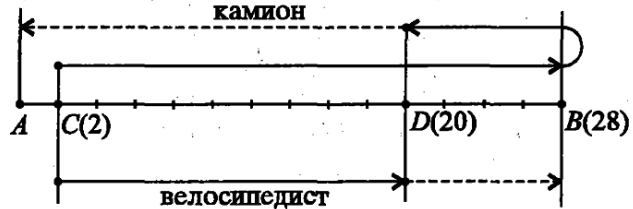
Нека x е брзината на велосипедистот, а y - брзината на камионот. Велосипедистот и камионот се сретнуваат во точките C и D оддалечени 2 km и 20 km од селото A . Додека велосипедистот го минал патот $\overline{CD} = 18\text{ km}$, камионот го изминал

патот $\overline{CB} + \overline{BD} = 34\text{ km}$ и притоа се задржал 22

минути, т.е. $\frac{11}{30}$ од часот, во градот B . Значи, велосипедистот се дви-

жел $\frac{18}{x}$ часа, а камио-

нот $\frac{34}{y} + \frac{11}{30}$ часа, т.е.



Црт. 3

$$(1) \quad \frac{18}{x} = \frac{34}{y} + \frac{11}{30}$$

Додека велосипедистот го изминал патот $\overline{DB} = 8\text{ km}$, камионот го изминал патот $\overline{DA} = 20\text{ km}$, т.е. неговата брзина е 2,5 пати поголема од брзината на велосипедистот. Значи:

$$(2) \quad y = 2,5x.$$

Заменувајќи (2) во (1) добиваме:

$$\frac{18}{x} = \frac{34}{2,5x} + \frac{11}{30} \quad / \cdot 30x$$

$$540 = 408 + 11x, \quad x = 12; \text{ тогаш } y = 30.$$

Следствено, брзината на велосипедистот е 12 km/h , а на камионот 30 km/h .

XIV (89.VIII.3)

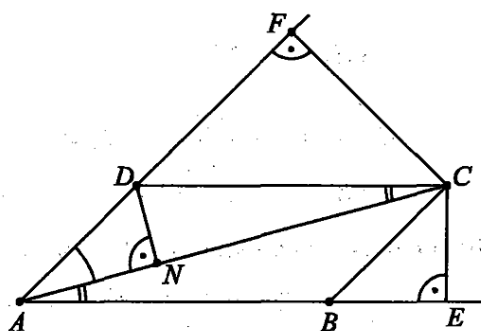
Нека CE и CF се нормални на страните AB и AD на паралелограмот $ABCD$ (црт. 4). Треба да докажеме

дека $\overline{AB} \cdot \overline{AE} + \overline{AD} \cdot \overline{AF} = \overline{AC}^2$. За таа цел повлекуваме $DN \perp AC$, па имаме:

1) $\triangle AND \sim \triangle AFC$ како правоаголни триаголници со заеднички остар агол кај темето A , од каде што следува:

$$\overline{AN} : \overline{AD} = \overline{AF} : \overline{AC}$$

(1) $\overline{AD} \cdot \overline{AF} = \overline{AC} \cdot \overline{AN}$



Црт. 4

2) $\triangle AEC \sim \triangle CND$, како правоаголни триаголници кои имаат еднаков по еден остар агол, т.е. $\angle EAC = \angle NCD$, како наизменични, од каде што следува:

$$\overline{AE} : \overline{AC} = \overline{NC} : \overline{CD}, \quad (\overline{CD} = \overline{AB})$$

(2) $\overline{AB} \cdot \overline{AE} = \overline{AC} \cdot \overline{NC}$

Со собирање на (1) и (2) добиваме:

$$\begin{aligned} \overline{AD} \cdot \overline{AF} + \overline{AB} \cdot \overline{AE} &= \overline{AC} \cdot \overline{AN} + \overline{AC} \cdot \overline{NC} \\ &= \overline{AC}(\overline{AN} + \overline{NC}) \\ &= \overline{AC} \cdot \overline{AC}. \end{aligned}$$

Значи, докажавме дека $\overline{AB} \cdot \overline{AE} + \overline{AD} \cdot \overline{AF} = \overline{AC}^2$.

XIV (89.VIII.4)

Ќе ги користиме ознаките на цртежот 5. Очигледно е дека $\triangle AOS \sim \triangle PQS$, од каде што следува:

$$\overline{AO} : \overline{OS} = \overline{PQ} : \overline{QS}$$

Имајќи предвид дека:

$$\overline{AO} = \frac{a}{2} = \frac{a\sqrt{2}}{2} = 6\sqrt{2}$$

$$\overline{OS} = 8$$

$$\overline{BP} = x, \text{ раб на коцката}$$

$$\overline{QS} = 8 - x$$

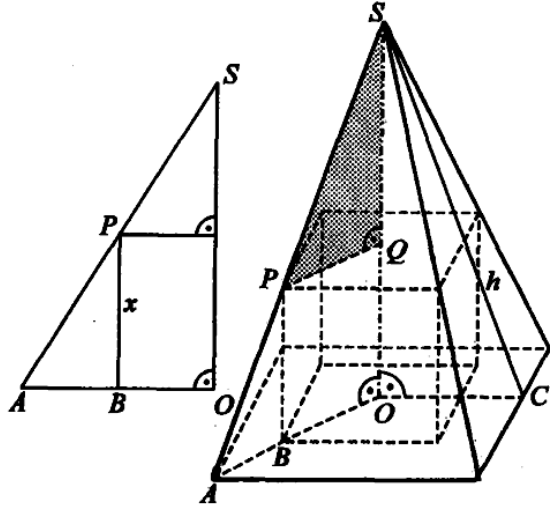
$$\overline{PQ} = \frac{x\sqrt{2}}{2}$$

добиваме:

$$6\sqrt{2} : 8 = \frac{x\sqrt{2}}{2} : (8 - x)$$

$$6\sqrt{2}(8 - x) = 8 \cdot \frac{x\sqrt{2}}{2} \quad | : 2\sqrt{2}$$

$$3(8 - x) = 2x, \quad x = 4,8.$$



Црт. 5

Значи, работ на коцката е 4,8 cm, па нејзината плоштина е:

$$P_k = 6 \cdot x^2 = 6 \cdot 4,8^2 = 138,24; \quad P_k = 138,24 \text{ cm}^2.$$

За да ја одредиме плоштината на пирамидата, треба да ја најдеме нејзината апотема h . Применувајќи ја Питагоровата теорема за правоаголниот $\triangle OCS$ наоѓаме:

$$h^2 = \left(\frac{a}{2}\right)^2 + H^2 = 36 + 64 = 100, \quad h = 10 \text{ cm}.$$

Тогаш:

$$P_{\parallel} = B + M = a^2 + 4 \cdot \frac{a \cdot h}{2} = 144 + 240; \quad P_{\parallel} = 384 \text{ cm}^2$$

За односот на плоштините на коцката и пирамидата наоѓаме:

$$P_k : P_{\parallel} = 138,24 : 384 = 13824 : 38400 = 9 : 25.$$

Следствено, бараниот однос е 9:25.