

1988

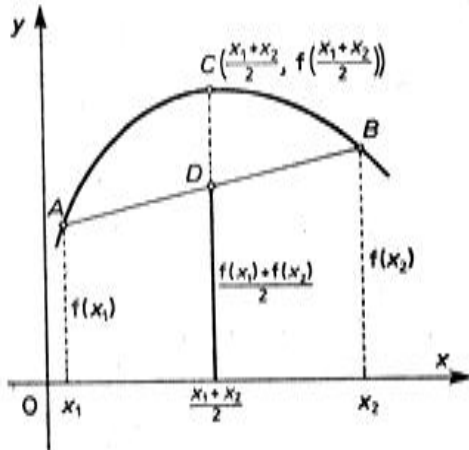
Konveksnost i konkavnost grafika funkcije

dr SVETOZAR VUKADINVIĆ, Beograd

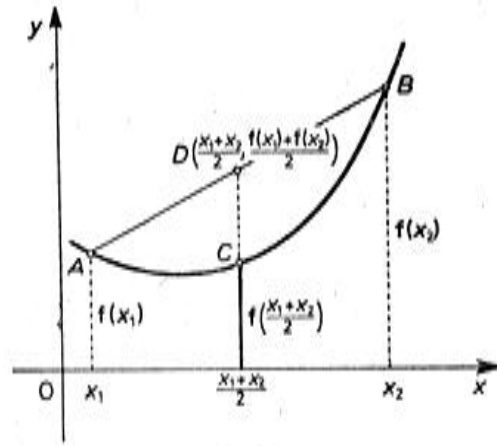
Grafik funkcije $y = f(x)$ u oblasti definisanosti može da bude konveksan (konkavan nadole, sl. 1) ili konkavan (konkavan nagore, sl. 2).

Ako spojimo dve proizvoljne tačke $A [x_1, f(x_1)]$ i $B [x_2, f(x_2)]$ konveksnog luka krive $y = f(x)$, onda je deo tog luka između tačaka A i B — iznad tetive AB . Znači, kod konveksnog luka ordinata proizvoljne tačke luka, izabrane između tačaka A i B , uvek će biti veća od ordinate tačke tetive sa istom apscisom. Ako izaberemo tačke na luku (C) i tetivi (D) sa apscisom $\frac{x_1 + x_2}{2}$, onda je ordinata tačke konveksnog luka $y_C = f\left(\frac{x_1 + x_2}{2}\right)$ veća od ordinate tačke tetive $y_D = \frac{f(x_1) + f(x_2)}{2}$, tj. tada je ispunjeno

$$f\left(\frac{x_1 + x_2}{2}\right) > \frac{f(x_1) + f(x_2)}{2}$$



Sl. 1.



Sl. 2.

ili

$$d = \frac{f(x_1) + f(x_2)}{2} - f\left(\frac{x_1 + x_2}{2}\right) < 0. \quad (1)$$

Ako spojimo dve proizvoljne tačke A i B konkavnog luka krive $y = f(x)$, onda je deo tog luka između tačaka A i B — ispod tetive AB . Znači, kod konkavnog luka ordinata proizvoljne tačke luka, izabrane između tačaka A i B , uvek će biti manja od ordinate tačke tetive sa istom apscisom. Ako i ovde izaberemo tačke na luku (C) i tetivi (D) sa apscisom $\frac{x_1 + x_2}{2}$, onda je ordinata tačke konkavnog luka $y_C = f\left(\frac{x_1 + x_2}{2}\right)$ manja od ordinate tačke tetive $y_D = \frac{f(x_1) + f(x_2)}{2}$, tj. tada je ispunjeno

$$f\left(\frac{x_1 + x_2}{2}\right) < \frac{f(x_1) + f(x_2)}{2}$$

ili

$$d = \frac{f(x_1) + f(x_2)}{2} - f\left(\frac{x_1 + x_2}{2}\right) > 0. \quad (2)$$

Kao što vidimo, da bismo utvrdili da li je posmatrani luk krive konveksan ili konkavan potrebno je ispitati znak razlike d , pa ako je ta razlika negativna, onda je luk krive konveksan, a ako je pozitivna, onda je luk krive konkavan.

Tačka u kojoj kriva prelazi iz konveksnosti u konkavnost (ili obratno) naziva se prevojna tačka krive (tačka infleksije).

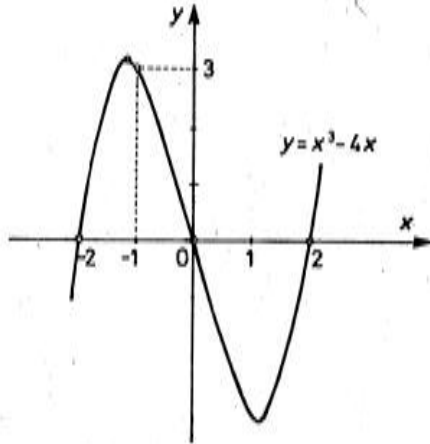
Primer. 1. Ispitati za koje vrednosti x je kriva $y = x^3 - 4x$ konveksna, a za koje je konkavna. *Rešenje.* Formirajmo razliku

$$\begin{aligned} d &= \frac{f(x_1) + f(x_2)}{2} - f\left(\frac{x_1 + x_2}{2}\right) = \frac{x_1^3 - 4x_1 + x_2^3 - 4x_2}{2} - \left[\left(\frac{x_1 + x_2}{2}\right)^3 - 4\frac{x_1 + x_2}{2}\right] = \\ &= \frac{x_1^3 + x_2^3 - 4(x_1 + x_2)}{2} - \frac{(x_1 + x_2)^3}{8} + 2(x_1 + x_2) = \frac{3}{8}(x_1 + x_2)(x_1 - x_2)^2. \end{aligned}$$

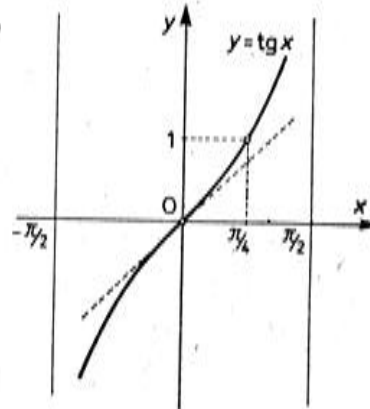
Ako su apscise x_1 i x_2 izabrane pozitivne ($0 < x_1 < x_2$), onda je $x_1 + x_2 > 0$, a kako je i $(x_1 - x_2)^2 > 0$, to je $d > 0$, pa je za $x > 0$ luk krive $y = f(x)$ konkavan. Za $x_1 < x_2 < 0$, razlika $d < 0$, pa je za $x < 0$ luk krive $y = f(x)$ konveksan. Prevojna tačka krive je koordinatni početak. Grafik funkcije $y = x^3 - 4x = x(x-2)(x+2)$ dat je na sl. 3.

Primer 2. Ispitati funkciju $y = \operatorname{tg} x$ ($-\frac{\pi}{2} < x < \frac{\pi}{2}$) u pogledu konveksnosti i konkavnosti.

Rešenje. Grafik funkcije $y = \operatorname{tg} x$ je simetričan u odnosu na koordinatni početak (neparna funkcija), i kako je za $x = 0$ i $\operatorname{tg} x = 0$, grafik prolazi kroz koordinatni početak (sl. 4). Zbog toga je dovoljno ispitati grafik funkcije samo za $0 < x < \frac{\pi}{2}$. Ako se za ove vrednosti x pokaže, na primer, da je grafik konkavan, onda će za $-\frac{\pi}{2} < x < 0$ grafik biti konveksan (i obrnuto). Neka je, dakle, $x > 0$.



Sl. 3.



Sl. 4.

Uzmimo dve tačke x_1 i x_2 takve da je $0 < x_1 < x_2 < \frac{\pi}{2}$ i formirajmo razliku:

$$d = \frac{\operatorname{tg} x_1 + \operatorname{tg} x_2}{2} - \operatorname{tg} \frac{x_1 + x_2}{2}.$$

Radi jednostavnosti stavimo $\frac{x_1}{2} = \alpha$, $\frac{x_2}{2} = \beta$. Sledi

$$\begin{aligned} d &= \frac{\operatorname{tg} 2\alpha + \operatorname{tg} 2\beta}{2} - \operatorname{tg}(\alpha + \beta) = \frac{\operatorname{tg} \alpha}{1 - \operatorname{tg}^2 \alpha} + \frac{\operatorname{tg} \beta}{1 - \operatorname{tg}^2 \beta} - \frac{\operatorname{tg} \alpha + \operatorname{tg} \beta}{1 - \operatorname{tg} \alpha \operatorname{tg} \beta} = \\ &= \frac{\operatorname{tg} \alpha + \operatorname{tg} \beta - \operatorname{tg} \alpha \operatorname{tg} \beta (\operatorname{tg} \alpha + \operatorname{tg} \beta)}{(1 - \operatorname{tg}^2 \alpha)(1 - \operatorname{tg}^2 \beta)} - \frac{\operatorname{tg} \alpha + \operatorname{tg} \beta}{1 - \operatorname{tg} \alpha \operatorname{tg} \beta} = \\ &= \frac{(\operatorname{tg} \alpha + \operatorname{tg} \beta)(\operatorname{tg} \alpha - \operatorname{tg} \beta)^2}{(1 - \operatorname{tg}^2 \alpha)(1 - \operatorname{tg}^2 \beta)(1 - \operatorname{tg} \alpha \operatorname{tg} \beta)}. \end{aligned}$$

Kako je $0 < x < \frac{\pi}{2}$, to je $0 < \alpha < \frac{\pi}{4}$ i $0 < \beta < \frac{\pi}{4}$, pa je $0 < \operatorname{tg} \alpha < 1$, $0 < \operatorname{tg} \beta < 1$. Sledi da je $\operatorname{tg} \alpha + \operatorname{tg} \beta > 0$, $1 - \operatorname{tg} \alpha \operatorname{tg} \beta > 0$, $1 - \operatorname{tg}^2 \alpha > 0$, $1 - \operatorname{tg}^2 \beta > 0$, $(\operatorname{tg} \alpha - \operatorname{tg} \beta)^2 > 0$, pa je i $d > 0$. Na taj način pokazali smo da je

$$\frac{\operatorname{tg} x_1 + \operatorname{tg} x_2}{2} - \operatorname{tg} \frac{x_1 + x_2}{2} > 0 \text{ za } 0 < x_1 < x_2 < \frac{\pi}{2},$$

što znači da je za $x > 0$ kriva $y = \operatorname{tg} x$ konkavna. Zbog simetričnosti grafika funkcije u odnosu na koordinatni početak, sledi da je za $x < 0$ grafik funkcije konveksan. Koordinatni početak je prevojna tačka grafika funkcije $y = \operatorname{tg} x$.

Vežbanja. Ispitati sledeće funkcije u pogledu konveksnosti i konkavnosti:

$$y = x^2, y = \frac{1}{x}, y = \frac{1}{x^2}, y = \sqrt{x}, y = a^x, y = \sin x, y = \log_a x \quad (0 < a < 1, a > 1),$$