


Душанка Панкова, Скопје

ЖИВОТИНСКО ЦАРСТВО

1. Крокодилот живее три пати подолго од слонот, а слонот живее три пати подолго од коњот. Коњот живее 40 години. Кое од овие животни живее најдолго и колку години тоа живее?



2. На две дрва имало 25 врапчиња. Кога од второто дрво одлетале 7 врапчиња, на првото дрво останале два пати повеќе врапчиња отколку на второто дрво. Колку врапчиња имало на првото, а колку на второто дрво?




3. Три прасиња и четири пилиња имаат:
____ очи, ____ нозе, ____ клунови,
____ срца, ____ крила, ____ уши, ____
рогови и ____ опаши



4. Биволот за еден час претрчува 45 км, носорогот претрчува 10 км повеќе, леопардот два пати повеќе од носорогот, а лавот претрчува 30 км помалку од леопардот. Колку километри претрчува секое животно за еден час?



5. Една кокошка годишно неси 185 јајца. Колку јајца несат 298 кокошки?



6. Ако три кокошки несат 3 јајца за три дена, колку јајца ќе снесат 12 кокошки за 12 дена?

7. Црвот се качува по стеблото на една липа. Ноќе се качува 4 м, а во текот на денот се спушта 2 м. На крајот на осмата ноќ црвот се искачил на врвот на липата. Колку е висока липата? Колку вкупно метри поминал црвот?




8. Вкупната маса на гуската, шатката и кокошката е 12 кг. Гуската има два пати поголема маса од шатката и кокошката заедно, а масата на шатката е три пати поголема од кокошката. Колку килограми има кокошката?




9. Кучето трча по зајакот кој бил 360 м пред него, со брзина од 15 м во секунда. По колку секунди ќе го стаса ако зајакот трча со брзина од 12 м во секунда?



10. Растојанието од 200 м може да го претрчаат: нојот за 13 секунди, коњот за 10 секунди, а антилопата за 8 секунди. Кое растојание може да го претрча секое од овие животни за еден час ако продолжат да трчаат со иста брзина?



11. Слонот за еден ден пие 140 л вода. Колку литри вода ќе испијат 3 слона за два дена?



12. Два слона за еден ден пијат 280 литри вода. Колку литри вода ќе испијат три слона за 2 дена?

13. За еден оброк за 16 крави потребно е 80 кг сено. Колку сено е потребно за еден оброк за 27 крави?



14. Чавката живее 27 години, ластовичката живее три пати помалку отколку чавката, а гавранот живее 40 години повеќе од ластовичката. Колку години живее гавранот?



15. Врапчето може да живее до 18 години, чавката 9 години повеќе од врапчето, а клукајдрецот 15 години повеќе од чавката. Колку години може да живее клукајдрецот?



16. Клукајдрецот за еден час може да изеде 100 гасеници. Колку гасеници ќе изеде за едно лето, ако бара храна по 16 часа на ден, а во нашите краеве живее 135 дена во текот на годината?

17. Во селскиот двор има вкупно 15 шатки, гуски и мисирки. Шатки има 12 повеќе отколку гуски. Колку мисирки има во селскиот двор?



18. Кога се движи полека коњот минува 150 цм во секунда, со кас минува 2 м 60 цм во секунда, а со галоп 4м 80 цм во секунда. Колкава е брзината на секое движење на коњот за една минута? А за 10 минути? А за 15 минути?



19. Кукавицата собира по 72 гасеници за еден час. Осум врапчиња собираат онолку гасеници колку три кукавици. Колку гасеници собира едено врапче?



20. Од подножјето до врвот на еден столб висок 25м бубамарата се искачува така што преку ден се качува 5м, а во текот на ноќта се симнува 1м. За колку денови бубамарата ќе се искачи на врвот на столбот?



21. Во кафезот има гуски и зајаци, кои заедно вкупно имаат 115 глави и 326 нозе. Колку гуски и колку зајаци има во кафезот?



22. Во едно стадо има половина кафеави, четвртина шарени и 16 црни говеда.
Колку говеда има во стадото?



23. Два галеба им носат храна на своите младенчиња три пати на ден. Еден галеб секогаш носи по 50 грама разни инсекти. Хранењето трае 50 дена. Колку килограми инсекти уловиле двата галеба за тој период?



24. Јајцето на кокошката има маса од 60 грама. Една десетина од масата е лушпата, една половина е белката, а остатокот е жолчката. Колкава маса има жолчката?



25. За добивање на 1 кг мед пчелата треба да направи околу 140 000 летови и да опраши околу 4 500 000 цветови. Колку летови прават пчелите за собирање на 100 грама мед? Колку цветови ќе опрашат пчелите при собирање на 10 кг мед?

