

Драгољуб Милошевиќ
Прањани

**ЗА ПРАВОАГОЛЕН ТРИАГОЛНИК
ШТО ИМА ЕДЕН ОСТАР АГОЛ ОД 15°**

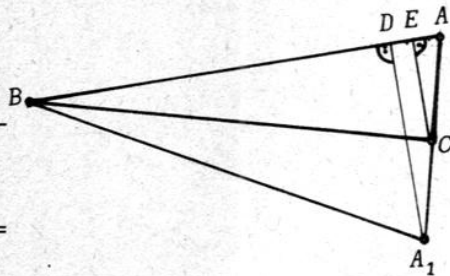
Во геометријата е познато едно својство на правоаголен триаголник што има еден остар агол од 15°. Во овој напис ќе го разгледаме ова својство и некои негови примени. За таа цел да ги разгледаме следните задачи.

Задача 1. Во правоаголен триаголник со еден остар агол од 15°, хипотенузата c е четирипати поголема од висината h_c спуштена кон c . Докажи!

Решение. Нека за правоаголниот триаголник ABC (црт. 1) важи $\sphericalangle ABC = 15^\circ$. Ја определуваме точката A_1 симетрична на точката A во

однос на катетата BC . Нека D и E се подножни точки на висината A_1D и CE на триаголниците ABA_1 и ABC , соодветно. За правоаголниот триаголник DBA_1

важи $\sphericalangle DBA_1 = 30^\circ$ и $\sphericalangle DA_1B = 60^\circ$, па затоа $\overline{A_1D} = \overline{A_1B}/2 = \overline{AB}/2$. Од друга



Црт. 1

страна, $\overline{AC} = \overline{CA_1}$ и $CE \parallel A_1D$ па затоа EC е средна линија за триаголникот A_1DA . Според тоа, $h_c = \overline{A_1D}/2 = \overline{AB}/4 = c/4$, а тоа требаше да се докаже.

Задача 2. Нека a, b се катетите и c е хипотенузата на правоаголен триаголник со еден остар агол од 15° . Докажете дека:

$$\text{а) } P = \frac{c^2}{8}$$

$$\text{б) } R = \sqrt{ab},$$

каде што P е плоштина, а R радиус на опишаната кружница околу триаголникот.

Решение. а) Плоштината на триаголникот е $P = \frac{1}{2}ch_c$.

Според задача 1 добиваме

$$(1) \quad P = \frac{1}{2}c \cdot \frac{1}{4}c = \frac{1}{8}c^2.$$

б) Дадениот триаголник е правоаголен со катети a и b , па затоа неговата плоштина е

$$(2) \quad P = \frac{ab}{2}.$$

Бидејќи радиусот на опишаната кружница околу правоаголниот триаголник е половина од хипотенузата, т.е. $R=c/2$, од релациите (1) и (2) добиваме

$$\frac{c^2}{8} = \frac{ab}{2}, \text{ т.е. } \left(\frac{c}{2}\right)^2 = ab,$$

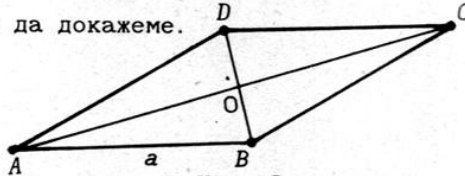
т.е. $R^2 = ab$, од каде што следува $R = \sqrt{ab}$.

Задача 3. Ако остриот агол на ромб е еднаков на 30° , тогаш страната a на тој ромб е еднаква на геометриската средина на неговите дијагонали, т.е. $a = \sqrt{d_1 \cdot d_2}$. Докажи!

Решение. Дијагоналите на ромбот се сечат под прав агол и се преполовуваат. Според тоа, AO е висина на рамнокракиот триаголник ABD , со $\sphericalangle BAD = 30^\circ$. Значи,

$$\sphericalangle BAO = 15^\circ.$$

Од претходната задача под б) и фактот дека $\overline{BO} = \frac{\sqrt{1}}{2}$ и $\overline{AO} = \frac{d_2}{2}$ добиваме $\frac{a}{2} = \sqrt{\frac{d_1}{2} \cdot \frac{d_2}{2}}$, т.е. $a = \sqrt{d_1 \cdot d_2}$, а тоа е што требаше да докажеме.



Црт. 2

Задача 4. Нека во внатрешноста на квадратот $ABCD$ е дадена точка M , но таква што $\overline{AM} = \overline{BM}$ и $\sphericalangle AMB = 150^\circ$. Докажи дека триаголникот CDM е рамнострани.

Решение: Нека DE е висина во $\triangle AMD$ и MF е висина во $\triangle ABM$.

Од $\overline{AM} = \overline{BM}$ и $\sphericalangle AMB = 150^\circ$ следува $\sphericalangle MAF = 15^\circ$, и $\sphericalangle AMF = 75^\circ$.

Значи, $\sphericalangle EAD = 90^\circ - \sphericalangle EAF = 75^\circ$ и $\sphericalangle EDA = 15^\circ$.

Според тоа, $\triangle AED \sim \triangle MFA$.

Значи,

$$(3) \quad \overline{MA} : \overline{AD} = \overline{MF} : \overline{AE}$$

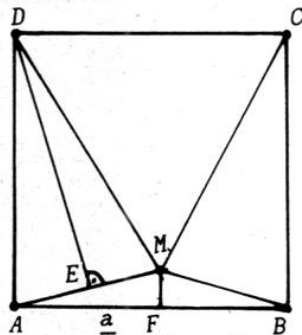
и бидејќи е $\overline{MA} = 2\sqrt{\overline{MF} \cdot \overline{AF}} = 2\sqrt{\overline{MF} \cdot \frac{a}{2}}$ и $\overline{AD} = a$ од (3) добиваме

$$(4) \quad \overline{AE} = \sqrt{\overline{MF} \cdot \frac{a}{2}} = \sqrt{\overline{MF} \cdot \overline{AF}}$$

Од (4) и задача 2 следува $\overline{AE} = \frac{\overline{MA}}{2}$, т.е. $\triangle AMD$ е рамнокрак, со краци $\overline{AD} = \overline{DM} = a$. Заради симетрија имаме дека и $\triangle BMC$ е рамнокрак со краци $\overline{MC} = \overline{BC} = a$.

Конечно, $\triangle MCD$ е рамнострани триаголник. Навистина, $\overline{MC} = \overline{MD} = \overline{CD} = a$.

Статијата прв пат е објавена во списанието Нумерус



Црт. 3