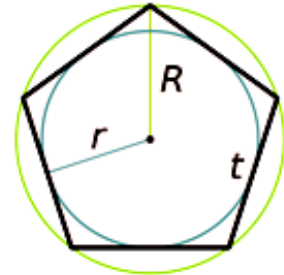


О ЈЕДНОМ ЈЕДНАКОСТРАНИЧНОМ ПЕТОУГЛУ

Ратко Тошић, Нови Сад

Правилан петоугао има све странице једнаке и све углове једнаке (108°). Ми ћемо посматрати конвексан једнакостранични петоугао код кога нису сви углови једнаки. Пођимо од петоугла који се једном својом дијагоналom може поделити на квадрат и једнакостранични троугао (слика 1). Зваћемо га *кућица*.

Лако се види да су углови тог петоугла редом $90^\circ, 90^\circ, 150^\circ, 60^\circ, 150^\circ$.

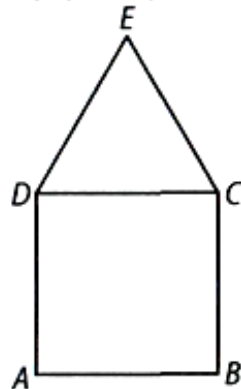


Особине кућице

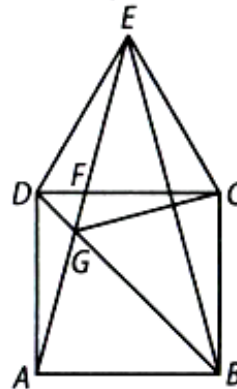
Почнимо од неколико једноставних задатака.

Задатак 1. Одреди величину угла $\angle DAE$.

Решење. Троугао AED (слика 2) је једнакокрак ($DA = DE$) и $\angle ADE = \angle ADC + \angle CDE = 90^\circ + 60^\circ = 150^\circ$. Зато је угао при основици $\angle DAE = 15^\circ$. (Наравно, тада је и $\angle DEA = 15^\circ$.)



слика 1



слика 2

Последица 1. На основу симетрије квадрата $ABCD$ у односу на праву BD је и $\angle DCG = \angle DAG = 15^\circ$, где је G тачка пресека дијагонала BD и AE .

Последица 2. $\angle AEB = 30^\circ$. Следи на основу тога што је кућица симетрична фигура, при чему је оса симетрије права кроз тачку E која је нормална на страницу AB .

Задатак 2. Одреди угао између дијагонала DC и AE .

Решење. Нека је F тачка пресека дијагонала CD и AE (слика 2). Угао $\angle CFE$ је спољашњи угао троугла DFE , па је $\angle CFE = \angle EDF + \angle DEF = 60^\circ + 15^\circ = 75^\circ$.

Задатак 3. Докажи да тачке D, G, C, E припадају једној кружници.

Решење. Следи на основу тога што је $\angle DEG = \angle DCG = 15^\circ$.

Задатак 4. Одреди угао између дијагонала BD и AE (слика 2).

Решење. Како је $\angle GDE = 60^\circ + 45^\circ = 105^\circ$, из троугла GDE добијамо да је $\angle DGE = 180^\circ - \angle GDE - \angle DEG = 180^\circ - 105^\circ - 15^\circ = 60^\circ$.

Последица 3. $\angle BGE = 120^\circ$.

Задатак 5. Докажи да су троуглови BCG и ECG подударни.

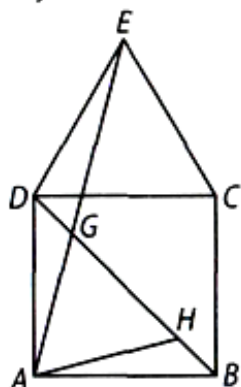
Решење. Следи на основу тога што троуглови BCG и ECG имају заједничку страну CG и два пара подударних углова ($\sphericalangle BCG = \sphericalangle ECG = 75^\circ$, $\sphericalangle CBG = \sphericalangle CEG = 45^\circ$).

Последица 4. $\sphericalangle BGC = \sphericalangle EGC = 60^\circ$.

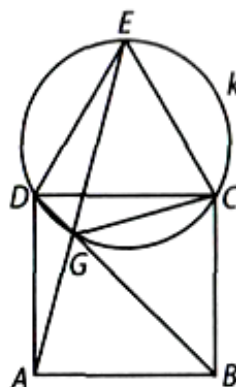
Последица 5. $BG = EG$.

Задатак 6. Докажи да је $BG = AG + DG$.

Решење 1. Нека је H тачка на дијагонали BD таква да је $BH = DG$ (слика 3). Троугао AHG је једнакостраничан, јер је $\sphericalangle HAG = 60^\circ$ и $AG = AH$ (на основу подударности троуглова ADG и ABH који имају подударне по две стране и захваћени угао). Следи да је $HG = AG$, одакле је $BG = HG + BH = HG + DG = AG + DG$.



слика 3



слика 4

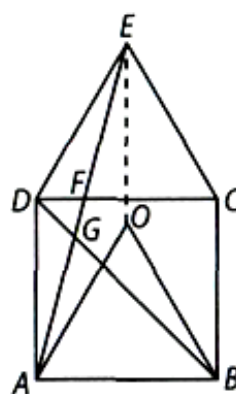
За ученике који су упознати са Птолемејевом теоремом и њеним последицама дајемо још једно решење:

Решење 2. Означимо са k кружницу описану око једнакостраничног троугла DCE (слика 4). Видели смо да тој кружници припада и тачка G која лежи на краћем луку DC те кружнице. Као директну последицу Птолемејеве теореме имамо тврђење да је $GE = GC + GD$, одакле на основу Последице 5 следи $BG = GC + GD = GA + GD$.

Мало тежи су следећи задаци:



слика 5



слика 6

Задатак 7. У ком односу тачка F дели дуж CD ?

Решење. Продужимо FE до пресека P са правом BC (слика 5). Лако се израчунава да је $BP = 2 \cdot (a + \sqrt{3})$, односно $CP = a(1 + \sqrt{3})$. (Зашто?) Правоугли троуглови FCP и FDA су

слични и при томе је $CP:DA = (a+a\sqrt{3}):a = (1+\sqrt{3}):1$. Следи да је и други пар одговарајућих страница у истом односу, тј. $FC:DF = (1+\sqrt{3}):1$.

Задатак 8. У ком односу тачка G дели дијагоналу BD ?

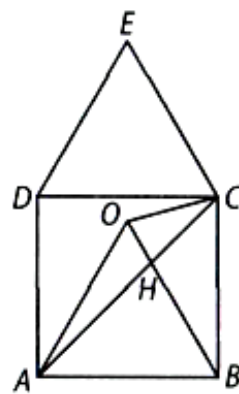
Решење. Према претходном задатку је $AB:DF = DC:DF = (2+\sqrt{3}):1$, па су троуглови ABG и FDG (слика 5) слични са коефицијентом сличности $2+\sqrt{3}$. Следи да су и одговарајуће странице BG и DG у истом односу, тј. $BG:DG = (2+\sqrt{3}):1$.

Задатак 9. Нека је O тачка у унутрашњости квадрата $ABCD$ таква да је ABO једнако-страничан троугао (слика 6). Доказати да је O центар кружнице описане око троугла ABE .

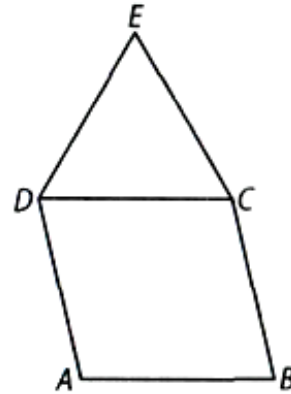
Решење. Лако се показује да је четвороугао $BCEO$ паралелограм, па је $OE = BC = OB = OA$, тј. тачке A, B и E су на једнаким растојањима од тачке O .

Задатак 10. Докажи да тачке A, B, G, O припадају једној кружници.

Решење. Следи на основу тога што је $\sphericalangle AOB = \sphericalangle AGB = 60^\circ$ (слика 6).



слика 7



слика 8

Задатак 11. Нека је H тачка пресека дужи BO са дијагономалом AC (слика 7). Докажи да је троугао COH једнакокрак.

Решење. Троугао CBO је једнакокрак са углом при врху $\sphericalangle CBO = 30^\circ$, па је угао при основици $\sphericalangle BOC = \sphericalangle BCO = 75^\circ$. С друге стране, из троугла BHC добијамо да је $\sphericalangle BHC = 180^\circ - \sphericalangle BCH - \sphericalangle HBC = 180^\circ - 45^\circ - 30^\circ = 105^\circ$, одакле је њему напоредан угао $\sphericalangle OHC = 75^\circ$. Како су углови $\sphericalangle HOC$ и $\sphericalangle OHC$ једнаки, троугао COH је једнакокрак.

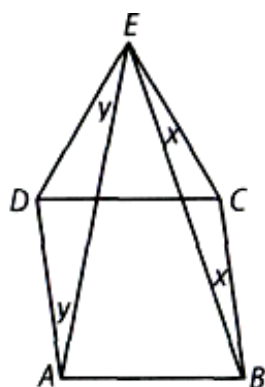
Последица 6. $OC = HC$.

Нахерена кућица

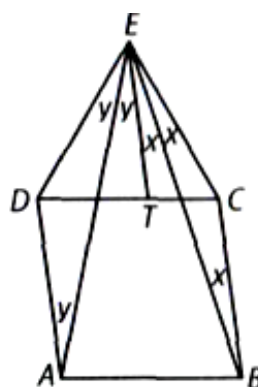
Посматрајмо сада конвексан једнакостранични петоугао $ABCDE$ који се једном дијагономалом може поделити на ромб и једнакостранични троугао (слика 8). Зваћемо га *нахерена кућица*.

За кућицу смо видели да је $\sphericalangle AEB = 30^\circ$ (последница 2). Уз аналогне ознаке као за усправну кућицу доказаћемо да исто тврђење важи и за нахерену кућицу, тј. даћемо неколико решења следећег задатка.

Задатак 12. Докажи да је, уз ознаке као на слици 9, $\sphericalangle AEB = 30^\circ$.



слика 9



слика10

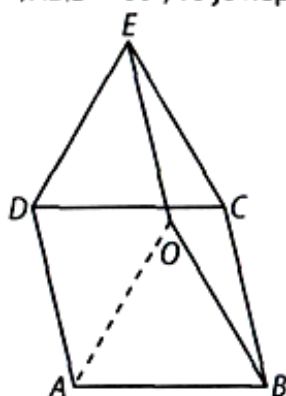
Решење 1. Нека је $\angle CEB = x$, $\angle DEA = y$ (слика 9). Тада је и $\angle EBC = x$ и $\angle EAD = y$. Даље имамо да је $\angle EAB + \angle EBA = 180^\circ - x - y$ (јер је $\angle DAB + \angle CBA = 180^\circ$). Како је $\angle AEB + \angle EAB + \angle EBA = 180^\circ$, то је $\angle AEB = 180^\circ - (180^\circ - x - y) = x + y$. Следи да је $\angle DEC = 2(x + y) = 60^\circ$, одакле је $\angle AEB = x + y = 30^\circ$.

Решење 2. Повуцимо кроз E паралелу са BC и нека она сече дијагоналу CD у тачки T (слика 10). Ако је $\angle CEB = x$, $\angle DEA = y$, онда је и $\angle TEB = \angle EBC = \angle CEB = x$ и $\angle TEA = \angle EAD = \angle AED = y$ (користили смо једнакост наизменичних углова), и даље $\angle DEC = 2x + 2y$; $\angle AEB = 30^\circ$.

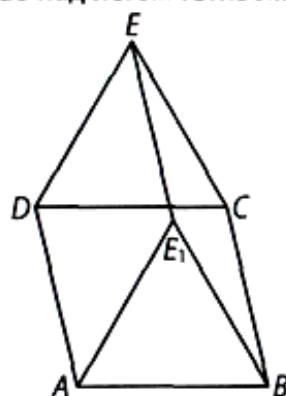
Решење 3. Конструирајмо ромб $ECBO$ (слика 11). Како су дужи AD , BC и OE паралелне и једнаке то је и $EOAD$ паралелограм. Међутим, $ED = AD$, па је тај паралелограм ромб.

Како дијагонале ромба полове одговарајуће углове, то је $\angle AEB = \frac{1}{2} \angle DEC = 30^\circ$.

Решење 4. Поставимо праву кроз A паралелну са DE и праву кроз B паралелну са CE и нека је E_1 њихова тачка пресека (слика 12). Троуглови DCE и ABE_1 су подударни. Дужи AE_1 и DE су паралелне и једнаке, па то важи и за дужи AD и E_1E . Како је $AE_1 = AD$, следи да је $E_1E = E_1A = E_1B$, тј. тачке E , A , B припадају истој кружници са центром E_1 . Како је централни угао $\angle AE_1B = 60^\circ$, то је периферијски угао над истом тетивом $\angle AEB = 30^\circ$.



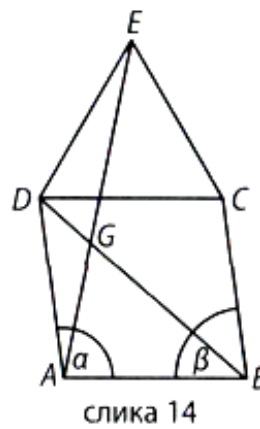
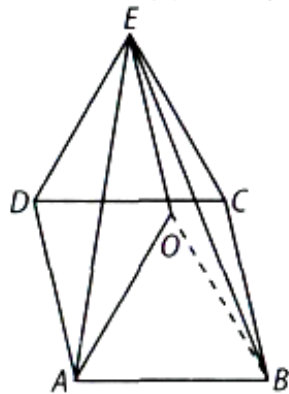
слика 11



слика 12

Решење 5. Симетријом у односу на праву AE троугао ADE пресликава се у троугао AOE (слика 13). Како је AE основца једнакокраког троугла ADE , четвороугао $EOAD$ је ромб. Слично се троугао BCE симетријом у односу на праву BE пресликава у троугао

BOE и на тај начин добијамо ромб $EOBC$. Добијамо ромбове са заједничком страницом OE , а даље настављамо као у решењу 3.



Задатак 13. Одреди угао између дијагонала AE и BD нахерене кућице.

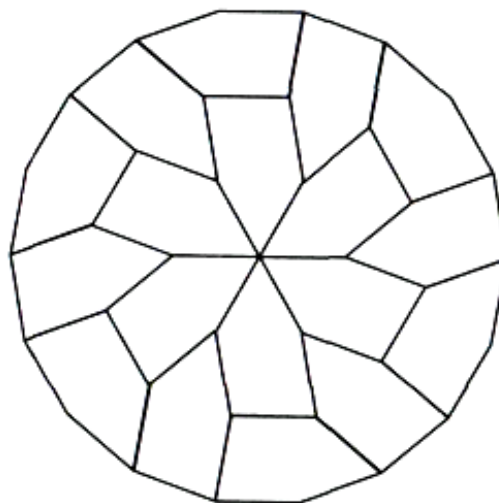
Решење. Нека су $\alpha = \sphericalangle DAB$ и $\beta = \sphericalangle ABC$ углови ромба $ABCD$, $\alpha + \beta = 180^\circ$, $\alpha > \beta$ (слика 14). Тада је у једнакокраном троуглу ADE угао при врху D једнак $60^\circ + \beta$, па су углови уз основицу $\sphericalangle DAE = \sphericalangle DEA = \frac{1}{2}(180^\circ - (60^\circ + \beta)) = 60^\circ - \frac{\beta}{2}$. Посматрајмо сада троугао DGE .

Величине углова код темена D и E редом су $60^\circ + \frac{\beta}{2}$ и $60^\circ - \frac{\beta}{2}$. Збир та два угла је 120° .

Трећи угао троугла, који представља тражени угао, је онда једнак $180^\circ - 120^\circ = 60^\circ$.

Као што видимо, добили смо исту вредност за величину угла између дијагонала BD и AE као и у случају усправне кућице. Читаоцима предлажемо да провере које од особина доказаних за усправну кућицу остају у важности и за нахерену кућицу.

Разлагање правилног 18-угла на подударне петоуглове



слика 15

На крају посматрајмо и специјалан случај нахерене кућице кад су величине углова трапеца $ABCD$ 100° и 80° . Тада добијамо петоугао са једнаким страницама и угловима редом 100° , 80° , 160° , 60° , 140° . Интересантна особина овог петоугла је да се од 18 таквих петоуглова може сложити правилан 18-угао. Другим речима, правилан 18-угао може се разрезати на 18 подударних конвексних петоуглова (са горе наведеним угловима) као што је представљено на слици 15.

Задаци за самостални рад

1. Одреди однос површина троуглова ABG и FDG (слика 2).
2. Који део површине кућице чини збир површина троуглова ABG и GDE .
3. Одреди полупречник најмањег круга у који се може сместити кућица.
4. Докажи да тачке C , O и G леже на једној правој (слика 6).
5. Испитај која од доказаних тврђења за усправну кућицу важе и за нахерену кућицу.

Статијата прв пат е објавена во списанието Математички лист на ДМ на Србија